

信号分析与处理试题（A）

主管  
领导  
审核  
签字

题号	一	二	三	四	五	六	七	八	九	十	总分
得分											
阅卷人											

考生须知：本次考试为闭卷考试，考试时间为120分钟，总分100分。

姓名  
学号  
班号  
学院

密  
封  
线

一、简答题（5' × 4）

1. 线性系统是否一定是时不变系统？是否一定是因果系统？为什么？
2. 若欲使信号通过线性系统不产生失真，则该系统应具有什么特性？
3. 连续非周期信号的<sup>DFT</sup>频谱密度是连续的还是离散的？为什么？
4. 简述离散傅里叶变换 DFT 和离散时间傅里叶变换 DTFT 的关系。

1. 不一定，线性系统当前的输出可能与未来的输入有关

线性系统可以对信号产生不同的相移

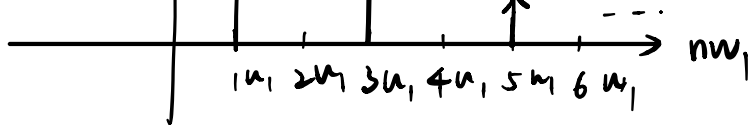
2. 系统函数  $H(\omega)$  的幅度特性为直线，相位特性为过原点的直线。

3. 连续的，DTFT 的定义为： $DTFT[x(n)] = \sum x(n) e^{-jn\omega} d_n = X(\omega)$   
 $e^{-jn\omega}$  是关于  $n$  的连续函数，则加和仍为关于  $n$  的连续函数。

4. 见2020

2. 用周期傅里叶级数的傅里叶级数：

$$\begin{aligned}
 f(\omega) &= \sum F_n \delta(\omega - n\omega_0) \quad \text{其中 } \omega_0 = \frac{2\pi}{T} \\
 &= \sum \frac{E}{n^2 \pi^2} [\cos(n\pi) - 1] \delta(\omega - n \frac{2\pi}{T}) \\
 &= \begin{cases} \frac{4E}{n^2 \pi^2} e^{j\pi} \delta(\omega - n \frac{2\pi}{T}) & n \text{ 为奇} \\ 0 & n \text{ 为偶} \end{cases}
 \end{aligned}$$



二、(20分) 已知图1所示周期三角信号

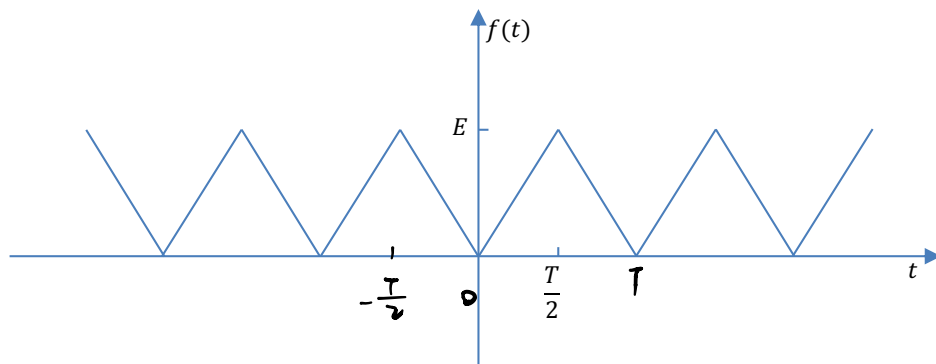


图1

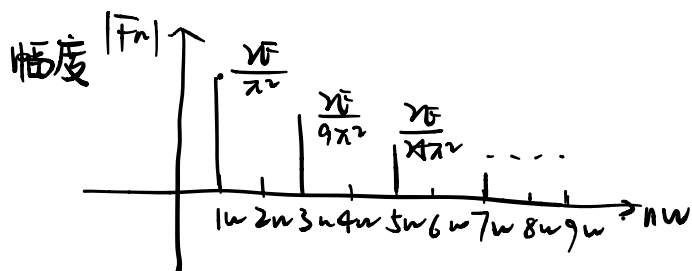
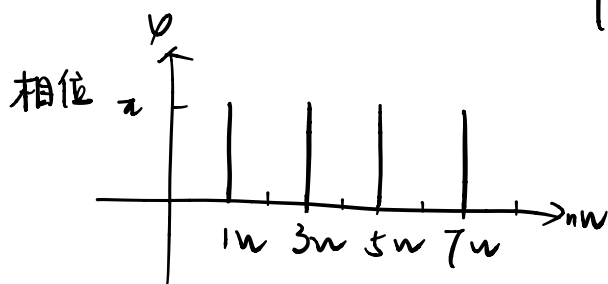
1. 求  $f(t)$  的傅里叶级数并画出频谱图; (10分)
2. 求  $f(t)$  的傅里叶变换并画出频谱密度图。(10分)

解: 1.  $f(\tau) = f(T-\tau)$

$$\begin{aligned}
 F_n &= \frac{1}{T} \int_{-T/2}^{T/2} f(\tau) \cdot e^{-jn\omega\tau} d\tau \\
 &= \frac{1}{T} \int_{-T/2}^{T/2} f(\tau) [\cos(n\omega\tau) - j\sin(n\omega\tau)] d\tau \\
 &= \frac{1}{T} \int_{-T/2}^{T/2} f(\tau) \cos(n\omega\tau) d\tau \\
 &= \frac{2}{T} \int_0^{T/2} \frac{2E}{T} \tau \cdot \cos(n\omega\tau) d\tau = \frac{4E}{T^2} \int_0^{T/2} \tau \cos(n\omega\tau) d\tau
 \end{aligned}$$

$$\begin{aligned}
 \text{其中: } & \int_0^{T/2} \tau \cos(n\omega\tau) d\tau \\
 &= \frac{1}{n\omega} \int_0^{T/2} \tau d[\sin(n\omega\tau)] \\
 &= \frac{1}{n\omega} \left( \tau \sin(n\omega\tau) \Big|_0^{T/2} - \int_0^{T/2} \sin(n\omega\tau) d\tau \right) \\
 &= \frac{1}{(n\omega)^2} \cos(n\omega\tau) \Big|_0^{T/2} \\
 &= \frac{1}{(n\omega)^2} [\cos(n\pi) - 1]
 \end{aligned}$$

$$\text{即: } F_n = \frac{E}{n^2 \pi^2} [\cos(n\pi) - 1] = \begin{cases} \frac{2E}{n^2 \pi^2} e^{j\pi} & (n \text{ 为奇}) \\ 0 & (n \text{ 为偶}) \end{cases}$$



三、(20分) 已知三角脉冲如图2所示,

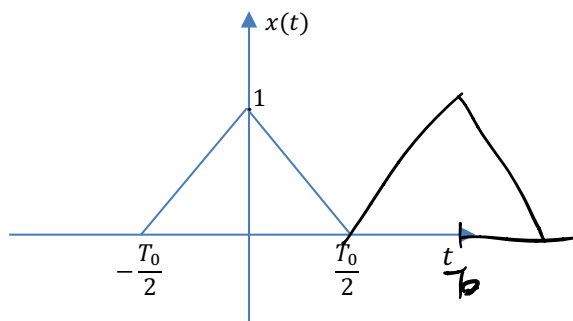
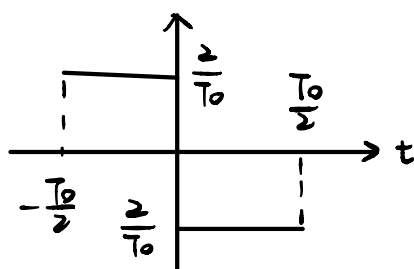


图2

1. 求三角脉冲的频谱; (10分)
2. 将  $x(t)$  以周期  $T_0$  重复, 构成周期信号  $x_p(t)$ , 画出对  $x_p(t)$  以  $\frac{T_0}{8}$  进行理想采样所构成的采样信号  $x_{ps}(t)$  的频谱  $X_{ps}(\omega)$ 。(10分)

(常见信号的傅里叶变换:  $\mathcal{F}[\delta(t)] = 1, \mathcal{F}[u(t)] = \frac{1}{j\omega} + \pi\delta(\omega)$ ; 傅里叶变换的性质: 微分性质  $\mathcal{F}[\frac{d^n x(t)}{dt^n}] = (j\omega)^n X(\omega)$ ; 积分性质  $\mathcal{F}[\int_{-\infty}^t x(\tau) d\tau] = \frac{1}{j\omega} X(\omega) + \pi X(0)\delta(\omega)$ , 其中  $X(\omega) = \mathcal{F}[x(t)]$  是  $x(t)$  的傅里叶变换)

1. 解: 考虑如下函数: 设其为  $g(t)$ ,



则有:  $g(t) = x'(t)$

$$\Rightarrow x(t) = \int_{-\infty}^t g(\tau) d\tau$$

求  $x(t)$  的傅里叶变换, 即求  $x(\omega)$

$$x(\omega) = \text{Sa}(\frac{T_0\omega}{4}) \cdot e^{+j\omega\frac{T_0}{4}} - \text{Sa}(\frac{T_0\omega}{4}) e^{-j\omega\frac{T_0}{4}}$$

$$G(\omega) = 2j \text{Sa}(\frac{\omega T_0}{4}) \text{Sa}(\frac{\omega T_0}{4})$$

$$\text{且 } G(0) = 0$$

$$X(\omega) = x(\omega) = \frac{1}{j\omega} G(\omega) + 0 = \frac{2}{\omega} \text{Sa}(\frac{\omega T_0}{4}) \text{Sa}(\frac{\omega T_0}{4})$$

2. 解:  $x_p(t)$  的级数为:  $\frac{1}{T_0} x(\omega) |_{\omega = n\omega_0}$

$$\text{即 } F_n = \frac{2}{n\omega_0 T_0} \text{Sa}(\frac{n\omega_0 T_0}{4}) \text{Sa}(\frac{n\omega_0 T_0}{4}) = \frac{8}{(n\omega_0 T_0)^2}$$

$x_p(t)$  的傅里叶变换为  $X_p(\omega) = 2\pi F_n \delta(\omega - n\omega_0)$

$$\text{即: } X_p(\omega) = 2\pi \times \frac{8}{(n\omega_0 T_0)^2} \times \delta(\omega - n\omega_0) = \frac{16\pi}{(n\omega_0 T_0)^2} \delta(\omega - n\omega_0)$$

$$\text{取样后信号频谱为: } X_{ps}(\omega) = \frac{1}{T_s} \sum_{-\infty}^{\infty} X_p(\omega) \cdot \delta(\omega - m\omega_s)$$

$$\text{即 } X_{ps}(\omega) = \frac{8}{T_s} \sum_{-\infty}^{\infty} \sum_{-\infty}^{\infty} \frac{16\pi}{(n\omega_0 T_0)^2} \cdot \delta(\omega - n\frac{2\pi}{T_0} - m \cdot \frac{16\pi}{T_0})$$

姓名

密

学号

封

班号

线

学院

四、(20分) 设  $X(z) = \frac{-3z^{-1}}{2-5z^{-1}+2z^{-2}}$ , 试问  $x(n)$  在以下三种收敛域下, 哪一种是左边序列? 哪一种是右边序列? 哪一种是双边序列? 并求出各对应的  $x(n)$ 。

1.  $|z| > 2$ ; (6分) 右
2.  $|z| < 0.5$ ; (6分) 左
3.  $0.5 < |z| < 2$ ; (8分) 双

(常见序列的 Z 变换:  $Z[u(n)] = \frac{z}{z-1}, 1 < |z| \leq \infty$ ;  $Z[-u(-n-1)] = \frac{z}{z-1}, 0 \leq z < 1$ ;  $Z[a^n u(n)] = \frac{z}{z-a}, |a| < |z| \leq \infty$ ;  $Z[-a^n u(-n-1)] = \frac{z}{z-a}, 0 \leq |z| < |a|$ )

解: ①  $|z| > 2$  是左边序列,

$$X(z) = \frac{-3z}{2z^2 + 2 - 5z} = \frac{2z}{2z-1} - \frac{z}{z-2} \quad \checkmark$$

右 ① 当  $|z| > 2$  为收敛域时有:  $x(n) = [(\frac{1}{2})^n - 2^n] u(n)$

左 ② 当  $|z| < 0.5$  时 —— 左  $x(n) = -(\frac{1}{2})^n u(-n-1) + 2^n u(-n-1)$   
 $= [(\frac{1}{2})^n + 2^n] u(-n-1)$

双 ③ —— 双  $x(n) = (\frac{1}{2})^n u(n) + 2^n u(-n-1)$

五、(20分) 线性时不变因果离散系统的差分方程为

$$y(n) - 5y(n-1) + 6y(n-2) = x(n) - 3x(n-2)$$

1. 求该系统的单位样值响应; (15分)  
 ② 判断系统是是否是线性时不变系统 (5分)。

问?

1. 傅里叶变换:  $Y(z) - 5z^{-1}Y(z) + 6z^{-2}Y(z) = X(z) - 3z^{-2}X(z)$

$$(1 - 5z^{-1} + 6z^{-2})Y(z) = (1 - 3z^{-2})X(z)$$

$$\Rightarrow H(z) = \frac{Y(z)}{X(z)} = \frac{1 - 3z^{-2}}{1 - 5z^{-1} + 6z^{-2}} = \frac{z^2 - 3}{z^2 - 5z + 6}$$

$$H(z) = \frac{z^2 - 3}{z^2 - 5z + 6} = -\frac{1}{2} \frac{z}{z-2} + \frac{2z}{z-3} - \frac{1}{2}$$

$$\Rightarrow h(n) = \left(-\frac{1}{2} \cdot 2^n + 2 \cdot 3^n\right) u(n) - \frac{1}{2} \delta(n)$$

2. 系统是LTI

姓名

密

学号

封

班号

线

学院



---

学院

班号

学号

姓名

.....线.....考.....密.....





---

学院

班号

学号

姓名

.....线.....考.....密.....

