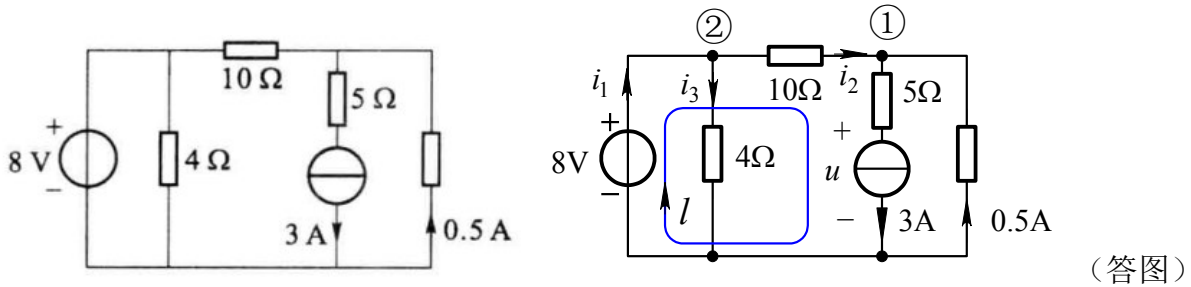


2021/2022 学 年 春 季 学 期

电路 IA 期末复习试题(2) 参考答案

一、填空题（共 5 小题，每小题 4 分，满分 20 分）

1. 下图中电压源发出的功率为 36 W，电流源发出的功率为 96 W。



【解析】 设各元件电压电流参考方向如答图所示。

$$i_2 = 3\text{A} - 0.5\text{A} = 2.5\text{A}, \quad i_3 = \frac{8\text{V}}{4\Omega} = 2\text{A}$$

对节点列 KCL 方程：节点①： $i_2 = 3\text{A} - 0.5\text{A} = 2.5\text{A}$

$$\text{节点②： } i_1 = i_2 + i_3 = 2.5\text{A} + 2\text{A} = 4.5\text{A}$$

对回路 l 列 KVL 方程： $10\Omega \times i_2 + 5\Omega \times 3\text{A} + u = 8\text{V}$ 得 $u = -32\text{V}$

电压源发出的功率 $P_{U_s} = 8\text{V} \times i_1 = 8\text{V} \times 4.5\text{A} = 36\text{W}$

电流源发出的功率 $P_{I_s} = -u \times 3\text{A} = 32\text{V} \times 3\text{A} = 96\text{W}$

2. 图示电路中 $R_1=1\Omega$, $R_2=3\Omega$, $L=2\text{H}$, $I_s=4\text{A}$, $u_s=4\sqrt{2} \cos 2t \text{ V}$, 则电流 i 的有效值为

1.225 或 1.22 或 $\frac{\sqrt{6}}{2}$ A。

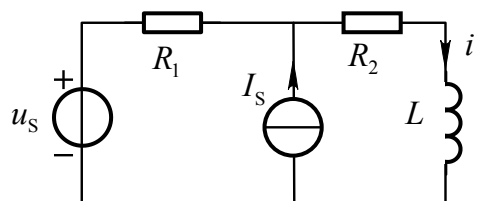
【解析】 直流电流源单独作用时，电感处于短路。由分流公式得电流 i 的直流分量为：

$$I_{(0)} = \frac{R_1}{R_1 + R_2} \times I_s = \frac{1}{1+3} \times 4\text{A} = 1\text{A}$$

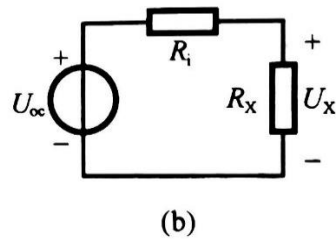
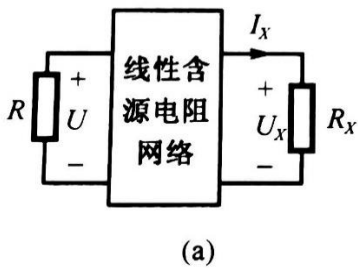
正弦电压源 $\dot{U}_s = 4\angle 0^\circ \text{V}$ 单独作用时（电流源不作用，相当于开路），由欧姆定律得：

$$\dot{I}_{(1)} = \frac{\dot{U}_s}{R_1 + R_2 + j\omega L} = \frac{4}{1+3+j4} = 0.5\sqrt{2}\angle -45^\circ \text{A}$$

电流 i 的有效值 $I = \sqrt{I_{(0)}^2 + I_{(1)}^2} = \sqrt{1 + (0.5\sqrt{2})^2} = 1.225\text{A}$



3. 图示电路, 已知 $R_x=0$ 时, $I_x=8\text{A}$, $U=12\text{V}$; 当 $R_x\rightarrow\infty$ 时, $U_x=36\text{V}$, $U=6\text{V}$ 。则当 $R_x=9\Omega$ 时, $U_x=\underline{24}\text{V}$, $U=\underline{8}\text{V}$ 。



【解析】 求出 R_x 以外电路的戴维南等效电路, 如图(b)所示。

其中, $U_{OC}=U_x|_{R_x\rightarrow\infty}=36\text{V}$ ($R_x\rightarrow\infty$ 相当于开路) $R_i=\frac{U_{OC}}{I_{SC}}=\frac{U_{OC}}{I_x|_{R_x=0}}=4.5\Omega$

因此, 当 $R_x=9\Omega$ 时, $U_x=\frac{9}{9+R_i}\times U_{OC}=24\text{V}$ 。

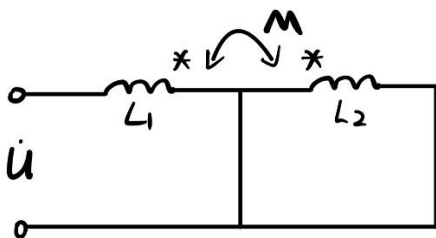
将电阻 R_x 用电压源 U_x 置换, 由叠加定理得 $U=U'+U''=U'+kU_x$ (U' 是网络内所有独立源共同作用所产生的分量)

(此时电阻的变化用电压源 U_x 的变化来代表)

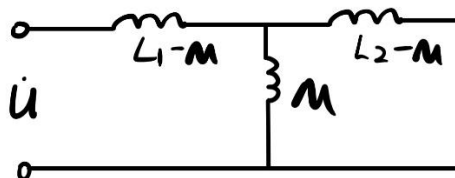
根据已知条件得 $\begin{cases} 12=U'+k\times 0 \\ 6=U'+k\times 36 \end{cases}$, 因此 $\begin{cases} U'=12\text{V} \\ k=-\frac{1}{6} \end{cases}$

所以当 $R_x=9\Omega$ 时, $U=U'+kU_x=12-\frac{1}{6}\times 24=8\text{V}$ 。

4. 如图所示电路, 端口等效电感为 $L_1 - \frac{M^2}{L_2}$ 。



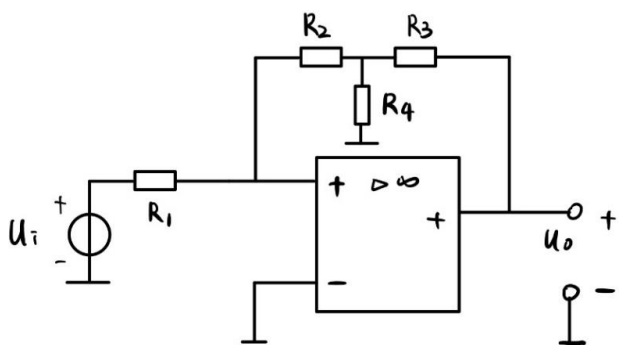
(题图)



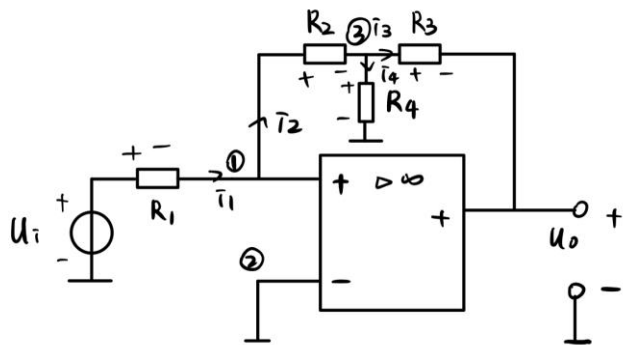
(答图)

【提示】 端口等效电路图如答图所示, 由此得到端口电压电流关系, 即可得等效电感。

5. 图示电路中, $R_1=1k\Omega$, $R_2=3k\Omega$, $R_3=R_4=2k\Omega$, 输入电压 $u_i=1V$, 则输出电压 $u_o=-8V$.



(题图)



(答图)

由虚短特性 $U_{n1} = U_{n2} = 0$

$$\text{故 } i_1 = \frac{u_i}{R_1} = \frac{1}{1000} \text{ A}$$

由虚断特性 $i_2 = i_1 = \frac{1}{1000} \text{ A}$

$$\therefore U_{n3} = U_{n1} - \frac{1}{1000} \times 3000 = -3V$$

$$U_{R4} = U_{n3} = -3V \quad i_4 = \frac{U_{R4}}{R_4} = -\frac{1.5}{1000} \text{ A}$$

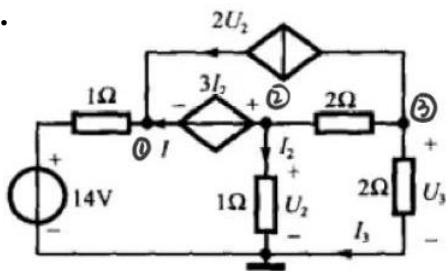
$$\text{由③ KCL } i_3 = i_2 - i_4 = \frac{2.5}{1000} \text{ A}$$

$$U_{R3} = i_3 R_3 = 5V$$

$$\therefore u_o = U_{n3} - U_{R3} = -8V.$$

二、计算题 (每小题 9 分, 满分 27 分)

6.



第 6 题图

列节点电压方程

$$\text{节点①: } \frac{1}{1\Omega} U_{n1} = \frac{14V}{1\Omega} + I_1 + 2U_2$$

$$\text{节点②: } \left(\frac{1}{1\Omega} + \frac{1}{2\Omega}\right) U_{n2} - \frac{1}{2\Omega} U_{n3} = -I_1$$

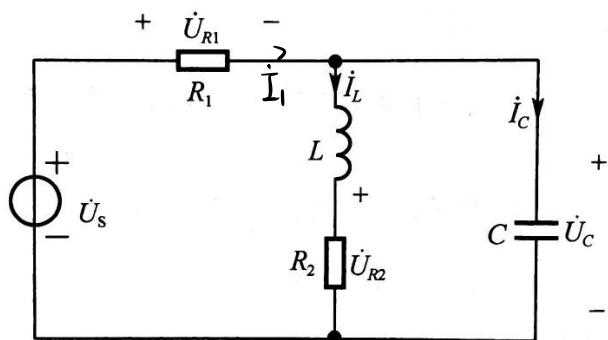
$$\text{节点③: } -\frac{1}{2\Omega} U_{n2} + \left(\frac{1}{2\Omega} + \frac{1}{2\Omega}\right) U_{n3} = -2U_2$$

$$\text{补充方程: } U_{n1} + 3I_2 = U_{n2}$$

$$U_{n2} = U_2 = 1\Omega \times I_2$$

$$\text{解得 } U_3 = U_{n3} = 12V$$

7. 图示电路中, 已知 \dot{U}_s 是频率为 ω 的正弦交流电压源, $I_C=3A$, $I_L=5A$, $\omega L=12\Omega$, $R_1=25\Omega$, 且 \dot{U}_{R1} 滞后 \dot{I}_C 90° . 求电阻 R_2 上电压有效值 U_{R2} 和电压源 \dot{U}_s 的有效值。



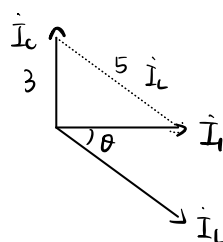
第7题图

解: 设 $\dot{I}_1 = I_1 \angle 0^\circ A$, 则 $\dot{I}_C = 3 \angle 90^\circ A$

$$\dot{U}_C = U_C \angle 0^\circ A, \quad \dot{U}_{R1} = U_{R1} \angle 0^\circ V$$

(\dot{I}_1 与 \dot{U}_{R2} 同相位)

由 $\dot{I}_1 = \dot{I}_L + \dot{I}_C$, \dot{I}_L 滞后于 \dot{U}_C ,
画相量图得:



则得: $I_1 = \sqrt{5^2 - 3^2} = 4 A$

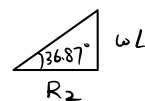
$$\theta = \arcsin \frac{3}{5} = 36.87^\circ$$

因此, $\dot{I}_L = 5 \angle -36.87^\circ A$

$$\dot{I}_1 = 4 \angle 0^\circ A.$$

\dot{I}_L 滞后于 \dot{U}_C 的角度即为 L 与 R_2 串联部分的阻抗角

因此 $\tan 36.87^\circ = \frac{\omega L}{R_2} = \frac{3}{4}$



所以 $R_2 = 16 \Omega$

所以 $U_{R2} = R_2 \times I_L = 80 V$

所以 L 与 R_2 串联部分阻抗为 $(12 + j16) \Omega$

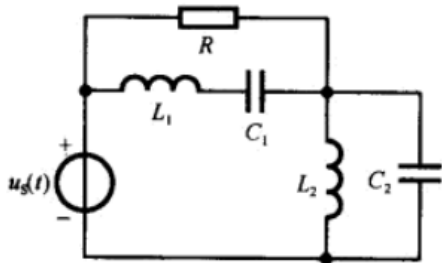
所以 $\dot{U}_C = (12 + j16) \times 5 \angle -36.87^\circ = 100 \angle 0^\circ V$

$$\begin{aligned} \dot{U}_s &= \dot{U}_{R1} + \dot{U}_C = 100 \angle 0^\circ V + 100 \angle 0^\circ V \\ &= 200 \angle 0^\circ V \end{aligned}$$

$$U_s = 200 V.$$

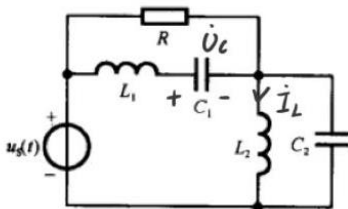
8. 如图所示正弦电路中, 已知 $\omega L_1 = \omega L_2 = 10\Omega$, $1/(\omega C_1) = 160\Omega$, $1/(\omega C_2) = 40\Omega$, $R = 200\Omega$, $u_s(t) = 100 + 10\sqrt{2} \cos(2\omega t + \frac{\pi}{6}) + 5\sqrt{2} \cos(4\omega t + \frac{\pi}{3})V$ 。试求:

(1) 电容 C_1 两端电压有效值; (2) 电感 L_2 中电流有效值。



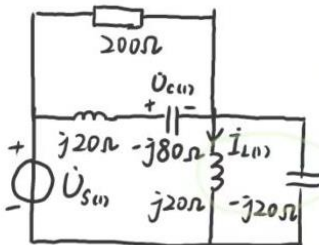
第 8 题图

【答案】

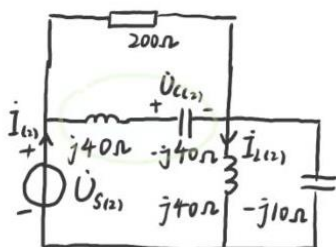


第 8 题图

直流 $U_{S(0)} = 100V$ 单独作用时
电感相当于短路, 电容相当于断路
 $U_C(0) = 100V$, $i_{L(0)} = 0.5A$



基波 $\dot{U}_{S(1)} = 10\angle 30^\circ V$ 单独作用时
 L_2, C_2 发生并联谐振
 $\dot{I}_{L(1)} = \frac{\dot{U}_{S(1)}}{j20\Omega} = 0.5\angle -60^\circ A$
 $\dot{U}_{C(1)} = 0V$



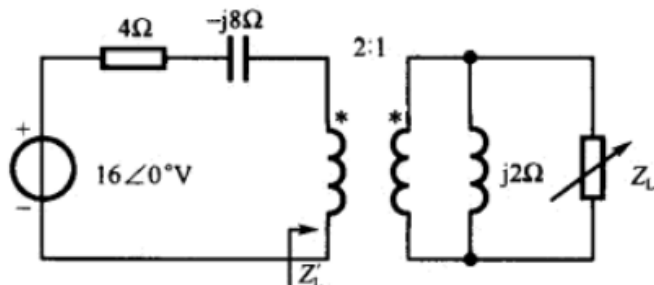
二次谐波 $\dot{U}_{S(2)} = 5\angle 60^\circ V$ 单独作用时
 L_1, C_1 发生串联谐振
 $\dot{I}_{L(2)} = \frac{\dot{U}_{S(2)}}{j40\Omega} = 0.125\angle -30^\circ A$
 $\dot{I}_{L(2)} = \frac{\dot{U}_{S(1)}}{j40\Omega} + \frac{\dot{U}_{S(2)}}{-j10\Omega} = 0.375\angle 150^\circ A$
 $\dot{U}_{C(2)} = -j40\Omega \times \dot{I}_{L(2)} = 15\angle 60^\circ V$

$$I_L = \sqrt{0.5^2 + 0.5^2 + 0.125^2} = 0.718A$$

$$U_C = \sqrt{100^2 + 15^2} = 101.12V$$

三、计算题 (每小题 11 分, 满分 44 分)

9. 图示电路中, 负载阻抗 Z_L 可任意调节, 试求负载 Z_L 为何值时它可以获得最大功率? 最大功率为多少? 并求此时通过二次侧阻抗为 $j2\Omega$ 的电感的电流有效值。



第 9 题图

解: 将二次侧阻抗等效到一次侧, 得等效阻抗 Z'_L 为

$$Z'_L = n^2 \times \frac{j2 \times Z_L}{j2 + Z_L}$$

当 Z'_L 等于电源内阻抗的共轭时它可以获得最大功率, 即

$$4 \times \frac{j2 \times Z_L}{j2 + Z_L} = 4 + j8$$

化简得

$$\frac{1}{Z_L} + \frac{1}{j2} = \frac{1}{1 + j2} \Rightarrow Z_L = (4 - j2)\Omega$$

由于理想变压器不消耗功率, 只传递功率, 所以 Z'_L 吸收的功率等于 Z_L 所吸收的功率, 它吸收的最大功率为

$$P_{\max} = \frac{U_{0C}^2}{4R_i} = \frac{16^2}{4 \times 4} = 16(\text{W})$$

等效不影响变压器一次侧电流, 则变压器一次侧电流相量为 $\dot{I} = \frac{16\angle 0^\circ}{4 - j8 + 4 + j8} = 2\angle 0^\circ \text{A}$

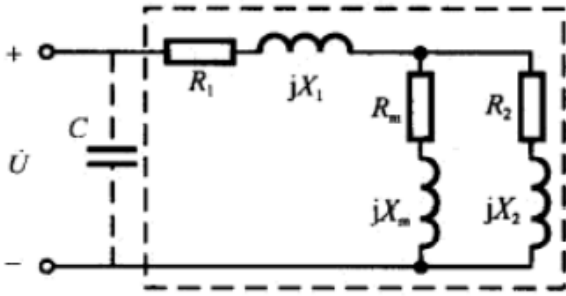
变压器一次侧电压相量为 $\dot{U}_1 = 16\angle 0^\circ - (4 - j8)2\angle 0^\circ = 8 + j16 \text{ V}$

则二次侧电压相量为 $\dot{U}_2 = \frac{1}{2}\dot{U}_1 = 4 + j8 \text{ V}$

所以通过二次侧阻抗为 $j2\Omega$ 的电感的电流有效值 $I = \frac{U_2}{|j2|} = \frac{4\sqrt{5}}{2} = 2\sqrt{5}\text{A} = 4.472\text{A}$

10. 下图为某负载的等效电路模型，已知 $R_1=X_1=8\Omega$ ， $R_2=X_2=3\Omega$ ， $R_m=X_m=6\Omega$ ，外加正弦电压有效值 $U=220V$ ，频率 $f=50Hz$ 。

- (1) 求负载的平均功率和功率因数。
 (2) 若并上电容 C ，将电路的功率因数提高到 0.9，求 C 。



第 10 题图

解：(1) 负载即虚线部分等效阻抗为 $Z = R_1 + jX_1 + (R_m + jX_m) \parallel (R_2 + jX_2) = (10 + j10)\Omega$

$$\text{阻抗角为 } \varphi_z = \arctan \frac{10}{10} = 45^\circ$$

$$\text{则功率因数为 } \lambda = \cos \varphi_z = \cos 45^\circ \approx 0.707$$

$$\text{负载消耗的平均功率为 } P = \frac{U^2}{|Z|} \times \lambda \approx 2420W$$

$$\text{(另解: } \dot{i} = \frac{\dot{U}}{Z} = 11\sqrt{2} \angle -45^\circ A, \quad \dot{i}_1 = \frac{11}{3}\sqrt{2} \angle -45^\circ A, \quad \dot{i}_2 = \frac{22}{3}\sqrt{2} \angle -45^\circ A$$

$$P = I^2 R_1 + I_1^2 R_m + I_2^2 R_2 = 2420W)$$

$$(2) \text{ 并联电容前负载的无功功率 } Q = P \tan \varphi_z = 2420\text{var}$$

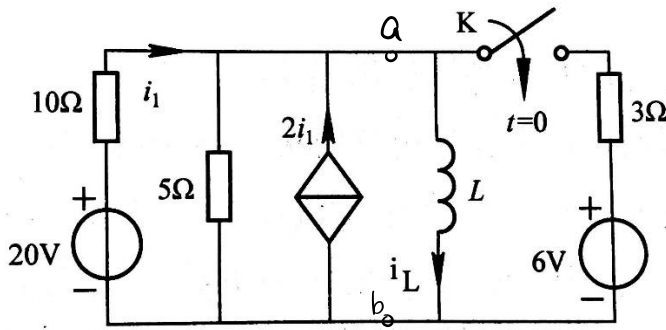
$$\text{并上电容后 } \lambda' = 0.9, \text{ 则功率因数角为 } \varphi' = \arccos 0.9 \approx 25.84^\circ$$

$$\text{并联电容后总的无功功率 } Q' = P \tan \varphi' \approx 1172.06\text{var}$$

$$\text{则电容引进的无功功率应为 } Q_C = Q' - Q = -\omega C U^2 = -1247.94\text{var}$$

$$\text{则所需电容值为 } C = -\frac{Q_C}{\omega U^2} \approx 82.1\mu F$$

11. 图示电路原处于稳态, $L=0.12\text{H}$ 。 $t=0$ 时开关 K 由断开突然闭合, 试用三要素法求 $t>0$ 时的电感电流 $i_L(t)$ 。



第 11 题图

解: 为方便解题, 将 ab 左侧电路作一戴维南等效。

① 求开路电压:

由①节点 KCL,

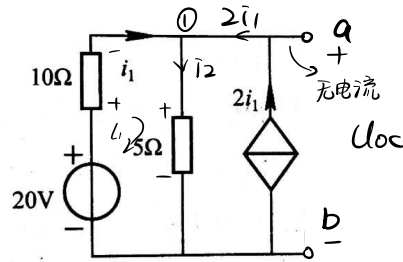
$$i_2 = 3i_1$$

由回路 l_1 KVL, 有

$$20 = 10i_1 + 5i_2$$

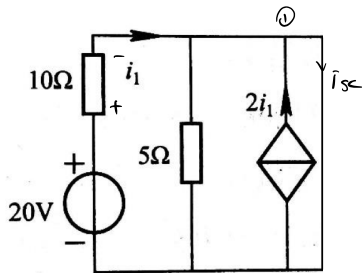
$$\text{得 } i_1 = 0.8\text{A}$$

$$\therefore U_{oc} = 5 \times i_2 = 5 \times 3i_1 = 12\text{V}$$



② 求等效电阻: 这里采取开路短路法,

即将端口短路, 求解短路电流, 利用 $R_i = \frac{U_{oc}}{i_{sc}}$ 即可。



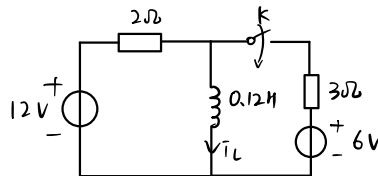
$$\text{由 KVL 知, } i_1 = \frac{20\text{V}}{10\Omega} = 2\text{A}$$

5Ω 电阻上没有压降 (故无电流)

$$\text{由①节点 KCL, 知 } i_{sc} = 3i_1 = 6\text{A}$$

$$\therefore R_i = \frac{U_{oc}}{i_{sc}} = 2\Omega$$

简化后的电路如右所示。



换路前电路处于稳态, 电感相当于短路, $i_L(0^-) = \frac{12\text{V}}{2\Omega} = 6\text{A}$

换路后瞬间, 由换路定律, $i_L(0^+) = i_L(0^-) = 6\text{A}$

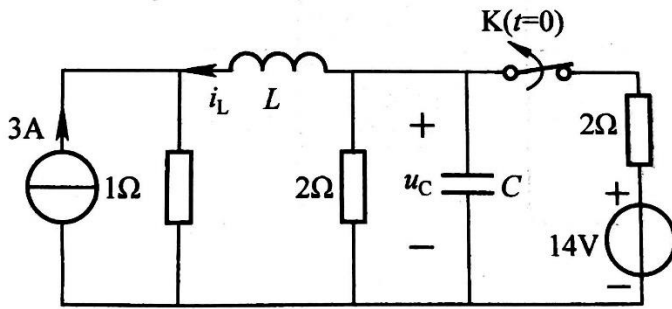
换路后达到稳态时, 用叠加定理求解得, 12V 电源单独作用时, $i_L' = 6\text{A}$;

6V 电源单独作用时, $i_L'' = 2\text{A}$, $\therefore i_L(\infty) = 8\text{A}$

$$\text{时间常数 } \tau = \frac{L}{R} = \frac{0.12}{2+3} = 0.15 \quad \therefore \text{由三要素公式 } i_L(t) = i_L(\infty) + [i_L(0^+) - i_L(\infty)]e^{-t/\tau}$$

$$= 8 - 2e^{-10t} \text{ A. } t \geq 0$$

12. 图示电路原处于稳态, $L=0.1\text{H}$, $C=0.5\text{F}$ 。 $t=0$ 时开关 K 由闭合突然断开, 试用拉普拉斯变换方法求 $t>0$ 时的电压 $u_C(t)$ 。



第 12 题图

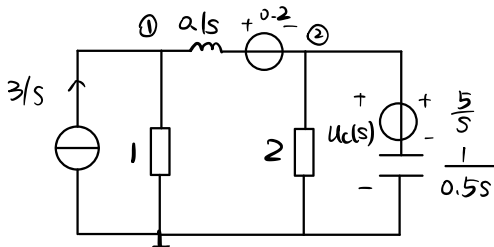
解: $t<0$ 时, 利用叠加定理求 $i_L(0^-)$ 和 $u_C(0^-)$:

$$3\text{A 电流源单独作用时, } \begin{aligned} \bar{i}_L' &= -1.5\text{A} \\ u_C' &= 1.5\text{V} \end{aligned}$$

$$14\text{V 电压源单独作用时, } \begin{aligned} u_C'' &= \frac{7}{2}\text{V} \\ \bar{i}_L'' &= \frac{7}{2}\text{A} \end{aligned}$$

$$= u_C(0^-) = 5\text{V}, \quad \bar{i}_L(0^-) = 2\text{A}$$

画出运算电路如下:



利用节点电压法:

$$\begin{aligned} (1 + \frac{1}{0.1s}) U_{n1}(s) - \frac{1}{0.1s} U_{n2}(s) &= \frac{3}{s} + \frac{0.2}{0.1s} \\ (\frac{1}{2} + \frac{1}{0.1s} + 0.5s) U_{n2}(s) - \frac{1}{0.1s} U_{n1}(s) &= 2.5 - \frac{0.2}{0.1s} \end{aligned}$$

$$\text{得 } U_{n2}(s) = \frac{5s^2 + 46s + 60}{s(s+5)(s+6)}$$

$$= \frac{A_1}{s} + \frac{A_2}{s+5} + \frac{A_3}{s+6}$$

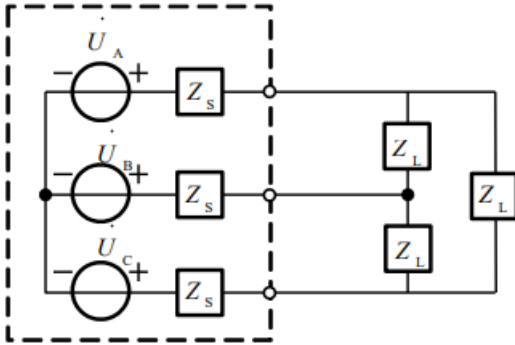
$$\text{解得 } A_1 = 2, \quad A_2 = 9, \quad A_3 = -6$$

$$\therefore U_{n2}(s) = \frac{2}{s} + \frac{9}{s+5} - \frac{6}{s+6}$$

$$= u_{n2}(t) = \mathcal{L}^{-1}\{U_{n2}(s)\} = 2 + 9e^{-5t} - 6e^{-6t} \text{ V.}$$

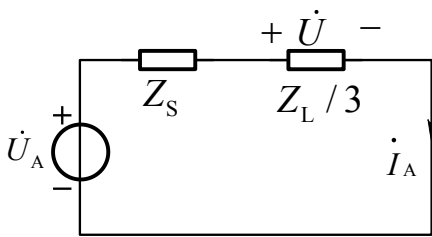
四、计算题 (9分)

13. 如图所示，内阻抗 $Z_S=(2+j4)\Omega$ 的对称三相电源给功率因数为 0.8 的感性负载 Z_L 供电，用电压表和电流表分别测得电源输出端的线电压和线电流分别为 380V 和 2A，求负载断开后电源输出的线电压为多少。



第 13 题图

解：



取一相分析：

$$\text{由题意知 } U = \frac{380}{\sqrt{3}} \text{ V} = 220 \text{ V}$$

$$\text{设 } \dot{U} = 220 \angle 0^\circ, \text{ 又 } \cos \varphi = 0.8 \text{ 且 } I_A = 2 \text{ A} = I_l$$

$$\text{所以 } \dot{I}_A = 2 \angle -36.87^\circ$$

$$\text{所以 } U_{Z_S} = \dot{I}_A \cdot (2 + j4) = (8 + j4) \text{ V}$$

$$\dot{U}_A = \dot{U} + \dot{U}_{Z_S} = 228.04 \angle 1^\circ$$

$$\text{所以 } U_l = \sqrt{3} U_A = 394.98 \text{ V}$$

请大家认真订正。祝大家取得好成绩！