

第 11 章 网络图论与网络方程 习题解答

目录 (点击对应题号即可查看该题解答)

11.1.....	1	11.10.....	4
11.2.....	1	11.11.....	5
11.3.....	1	11.12.....	5
11.4.....	2	11.13.....	6
11.5.....	2	11.14.....	6
11.6.....	2	11.15.....	7
11.7.....	3	11.16.....	7
11.8.....	3	11.17.....	8
11.9.....	3		

11.1 在图示网络的图中, 问下列支路集合哪些是割集? 哪些不是割集? 为什么?

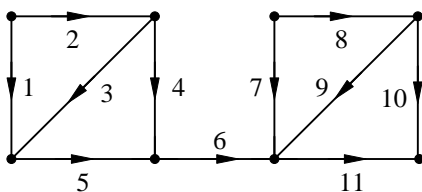
- ① 1、3、5; ② 2、3、4、7、8; ③ 4、5、6; ④ 6; ⑤ 4、7、9; ⑥ 1、3、4、7。

解: ①、④ 是割集, 符合割集定义。

②、③ 不是割集, 去掉该支路集合, 将电路分成了孤立的三部分。

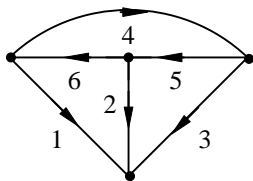
⑤ 不是割集, 去掉该支路集合, 所剩线图仍连通。

⑥ 不是割集, 不是将图分割成两孤立部分的最少支路集合。因为加上支路 7, 该图仍为孤立的两部分。



图题 11.1

11.2 在图示网络的图中, 任选一树, 指出全部的基本回路的支路集合和全部基本割集的支路集合。



图题 11.2

解: 选 1、2、3 为树支, 基本回路支路集合为 $\{1, 3, 4\}$, $\{2, 3, 5\}$, $\{1, 2, 6\}$;

基本割集的支路集合为 $\{1, 4, 6\}$, $\{2, 5, 6\}$, $\{3, 4, 5\}$ 。

选 1、2、5 为树支, 基本回路支路集合为 $\{1, 2, 4, 5\}$, $\{2, 3, 5\}$, $\{1, 2, 6\}$;

基本割集的支路集合为 $\{1, 4, 6\}$, $\{2, 3, 4, 6\}$, $\{3, 4, 5\}$ 。

11.3 设某网络的基本回路矩阵为

$$\mathbf{B} = \begin{bmatrix} 0 & -1 & 1 & 1 & 0 & 0 \\ 1 & -1 & 1 & 0 & 1 & 0 \\ 0 & 0 & 1 & 0 & 0 & 1 \end{bmatrix}$$

① 若如已知连支电流 $i_4 = 4\text{A}$, $i_5 = 5\text{A}$, $i_6 = 6\text{A}$, 求树支电流。

② 若已知树支电压 $u_1 = 1\text{V}$, $u_2 = 2\text{V}$, $u_3 = 3\text{V}$, 求连支电压。

③ 画出该网络的图。

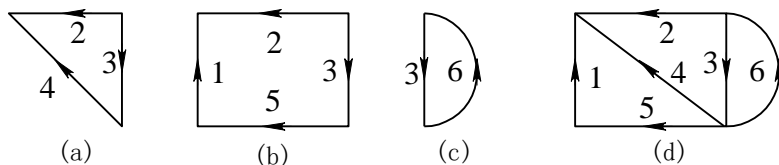
解：① 由公式 $I_l = B_l^T I_t$ ，已知连支电流，可求得树支电流

$$\begin{bmatrix} i_1 \\ i_2 \\ i_3 \end{bmatrix} = \begin{bmatrix} 0 & 1 & 0 \\ -1 & -1 & 0 \\ 1 & 1 & 1 \end{bmatrix} \begin{bmatrix} i_4 \\ i_5 \\ i_6 \end{bmatrix} = \begin{bmatrix} 5 \\ -9 \\ 15 \end{bmatrix} \text{A}$$

② 由公式 $U_l = -B_l U_t$ ，已知树支电压，可求得连支电压

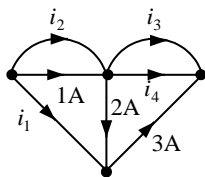
$$\begin{bmatrix} u_4 \\ u_5 \\ u_6 \end{bmatrix} = - \begin{bmatrix} 0 & -1 & 1 \\ 1 & -1 & 1 \\ 0 & 0 & 1 \end{bmatrix} \begin{bmatrix} 1 \\ 2 \\ 3 \end{bmatrix} = \begin{bmatrix} -1 \\ -2 \\ -3 \end{bmatrix} \text{V}$$

③ 由矩阵 B 画出各基本回路，如图 11.3(a)~(c)所示。将各基本回路综合在一起得题中所求线图，如图 11.3(d)所示。

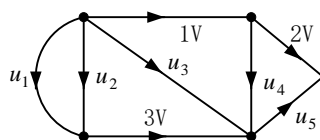


图题 11.3

11.4 网络的图如图所示，已知部分支路电流。若要求出全部支路电流应该怎样补充已知条件？



图题 11.4



图题 11.5

解：连支电流是一组独立变量，若已知连支电流，便可求出全部支路电流。因此除将图中已知电流支路作为连支外，还需将支路 3 或 4 作为连支。即补充支路 3 或 4 的电流。若补充 i_3 ，则得 $i_1 = 1\text{A}$ ， $i_2 = -2\text{A}$ ， $i_4 = -3\text{A} - i_3$ ；若补充 i_4 ，则得 $i_1 = 1\text{A}$ ， $i_2 = -2\text{A}$ ， $i_3 = -3\text{A} - i_4$ 。

11.5 网络的图如图所示，已知其中的三条支路电压，应该怎样补充已知条件，才能求出全部未知支路电压？

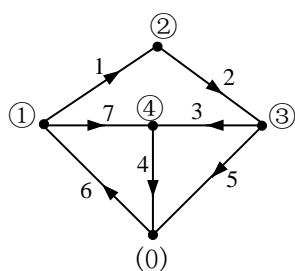
解：树支电压是一组独立变量，若已知树支电压，便可求出全部支路电压。除将图中已知支路电压作为树支外，还需在支路 1、2、3、4、5 中任选一条支路作为树支。即在 u_1 、 u_2 、 u_3 、 u_4 、 u_5 中任意给定一个电压便可求出全部未知支路电压。

11.6 已知网络图的关联矩阵 A 为

$$A = \begin{bmatrix} 1 & 2 & 3 & 4 & 5 & 6 & 7 \\ 1 & 0 & 0 & 0 & 0 & -1 & 1 \\ -1 & 1 & 0 & 0 & 0 & 0 & 0 \\ 0 & -1 & 1 & 0 & 1 & 0 & 0 \\ 0 & 0 & -1 & 1 & 0 & 0 & -1 \end{bmatrix} \begin{matrix} \text{①} \\ \text{②} \\ \text{③} \\ \text{④} \end{matrix}$$

画出该网络图（标明支路、节点号以及方向），并以支路 1、2、3、4 为树支，列写基本回路矩阵 B 。

解: 网络图



基本回路矩阵 B

$$B = \begin{bmatrix} 1 & 2 & 3 & 4 & 5 & 6 & 7 \\ 0 & 0 & -1 & -1 & 1 & 0 & 0 \\ 1 & 1 & 1 & 1 & 0 & 1 & 0 \\ -1 & -1 & -1 & 0 & 0 & 0 & 1 \end{bmatrix}$$

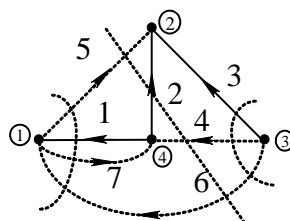
11.7 设某网络图的关联矩阵为

$$A = \begin{bmatrix} -1 & 0 & 0 & 0 & 1 & -1 & 1 \\ 0 & -1 & -1 & 0 & -1 & 0 & 0 \\ 0 & 0 & 1 & 1 & 0 & 1 & 0 \end{bmatrix}$$

取 1、2、3 支路为树支, 写出基本割集矩阵。

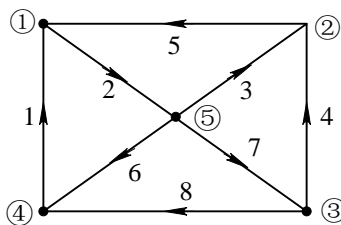
解: 由关联矩阵 A 画出网络图, 如图题 11.7 所示, 由图写出基本割集矩阵如下:

$$C = \begin{bmatrix} 1 & 0 & 0 & 0 & -1 & 1 & -1 \\ 0 & 1 & 0 & -1 & 1 & -1 & 0 \\ 0 & 0 & 1 & 1 & 0 & 1 & 0 \end{bmatrix}$$



图题 11.7

11.8 图示网络线图中, 以支路 1、2、3、4 为树支, 列写基本回路矩阵 B 和基本割集矩阵 C 。



图题 11.8

解:

$$B = \begin{bmatrix} 1 & 2 & 3 & 4 & 5 & 6 & 7 & 8 \\ 0 & 1 & 1 & 0 & 1 & 0 & 0 & 0 \\ 1 & 1 & 0 & 0 & 0 & 1 & 0 & 0 \\ 0 & 0 & -1 & 1 & 0 & 0 & 1 & 0 \\ 1 & 1 & 1 & -1 & 0 & 0 & 0 & 1 \end{bmatrix}$$

$$C = \begin{bmatrix} 1 & 2 & 3 & 4 & 5 & 6 & 7 & 8 \\ 1 & 0 & 0 & 0 & 0 & -1 & 0 & -1 \\ 0 & 1 & 0 & 0 & -1 & -1 & 0 & -1 \\ 0 & 0 & 1 & 0 & -1 & 0 & 1 & -1 \\ 0 & 0 & 0 & 1 & 0 & 0 & -1 & 1 \end{bmatrix}$$

11.9 某网络图的基本割集矩阵为

$$C = \begin{bmatrix} 1 & 0 & 0 & 0 & 1 & 0 & 0 & -1 \\ 0 & 1 & 0 & 0 & 0 & 1 & 1 & 1 \\ 0 & 0 & 1 & 0 & -1 & -1 & -1 & 0 \\ 0 & 0 & 0 & 1 & -1 & -1 & 0 & 0 \end{bmatrix}$$

画出对应网络的图。

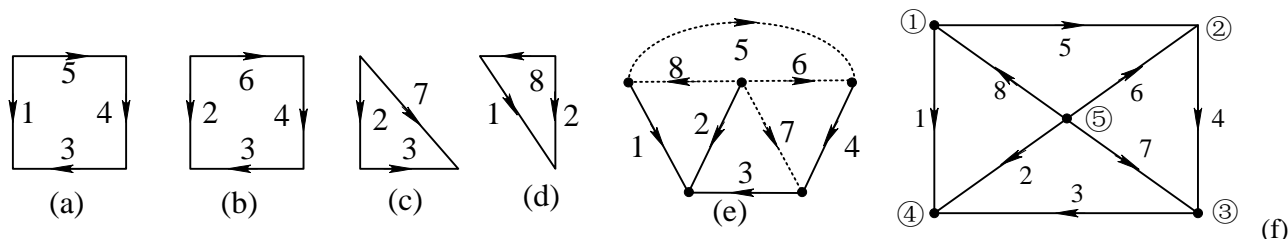
解： C 可以表示为

$$C = \left[\begin{array}{cccc|cccc} 1 & 0 & 0 & 0 & 1 & 0 & 0 & -1 \\ 0 & 1 & 0 & 0 & 0 & 1 & 1 & 1 \\ 0 & 0 & 1 & 0 & -1 & -1 & -1 & 0 \\ 0 & 0 & 0 & 1 & -1 & -1 & 0 & 0 \end{array} \right] = [C_t \mid C_l]$$

由 $B_t = -C_t^T$ 得

$$B_t = \begin{bmatrix} -1 & 0 & 1 & 1 \\ 0 & -1 & 1 & 1 \\ 0 & -1 & 1 & 0 \\ 1 & -1 & 0 & 0 \end{bmatrix}, \quad B = [B_t \mid B_l] = \begin{bmatrix} -1 & 0 & 1 & 1 & 1 & 0 & 0 & 0 \\ 0 & -1 & 1 & 1 & 0 & 1 & 0 & 0 \\ 0 & -1 & 1 & 0 & 0 & 0 & 1 & 0 \\ 1 & -1 & 0 & 0 & 0 & 0 & 0 & 1 \end{bmatrix}$$

由 B 矩阵画出各基本回路，如图 11.9 (a)~(d) 所示。将各基本回路综合在一起得题中所求线图，如图 11.9 (e) 或 (f) 所示。



图题11.9

11.10 已知某网络图的基本回路矩阵

$$B = \begin{bmatrix} 1 & 0 & 0 & 0 & 0 & -1 & -1 & 0 \\ 0 & 1 & 0 & 0 & 0 & 0 & 1 & 1 \\ 0 & 0 & 1 & 0 & 1 & 1 & 1 & 0 \\ 0 & 0 & 0 & 1 & -1 & -1 & 0 & 1 \end{bmatrix}$$

试写出此网络的基本割集矩阵 C 。

解： B 可以表示为

$$B = \left[\begin{array}{cccc|cccc} 1 & 0 & 0 & 0 & 0 & -1 & -1 & 0 \\ 0 & 1 & 0 & 0 & 0 & 0 & 1 & 1 \\ 0 & 0 & 1 & 0 & 1 & 1 & 1 & 0 \\ 0 & 0 & 0 & 1 & -1 & -1 & 0 & 1 \end{array} \right] = [B_l \mid B_t]$$

由 $C_l = -B_l^T$ 得

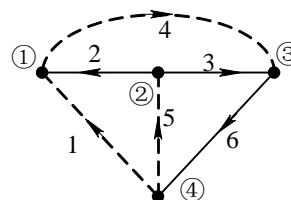
$$C_l = \begin{bmatrix} 0 & 0 & -1 & 1 \\ 1 & 0 & -1 & 1 \\ 1 & -1 & -1 & 0 \\ 0 & -1 & 0 & -1 \end{bmatrix}, \quad C = [C_l \mid C_t] = \begin{bmatrix} 0 & 0 & -1 & 1 & 1 & 0 & 0 & 0 \\ 1 & 0 & -1 & 1 & 0 & 1 & 0 & 0 \\ 1 & -1 & -1 & 0 & 0 & 0 & 1 & 0 \\ 0 & -1 & 0 & -1 & 0 & 0 & 0 & 1 \end{bmatrix}$$

11.11 已知按有向图 G 的某个树 T 列写的基本回路矩阵 B 如下所示, 其中矩阵 B 上数字 1~6 表示支路编号。求此树 T 由那些支路组成, 并画出该图及对应该树的基本割集矩阵 C 。

$$B = \begin{matrix} & 1 & 2 & 3 & 4 & 5 & 6 \\ \begin{matrix} l_1 \\ l_2 \\ l_3 \end{matrix} & \begin{bmatrix} 1 & -1 & 1 & 0 & 0 & 1 \\ 0 & 1 & -1 & 1 & 0 & 0 \\ 0 & 0 & 1 & 0 & 1 & 1 \end{bmatrix} \end{matrix}$$

解: $T: \{2, 3, 6\}$

$$B(N) = \begin{matrix} & 2 & 3 & 6 & 1 & 4 & 5 \\ \begin{bmatrix} -1 & 1 & 1 & 1 & 0 & 0 \\ 1 & -1 & 0 & 0 & 1 & 0 \\ 0 & 1 & 1 & 0 & 0 & 1 \end{bmatrix} \end{matrix}$$

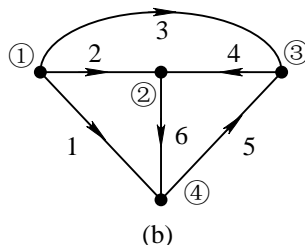
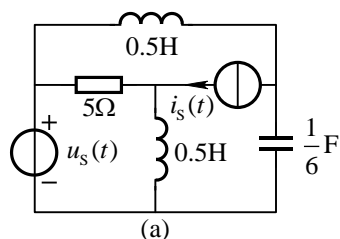


$$C(N) = \begin{matrix} & 2 & 3 & 6 & 1 & 4 & 5 \\ \begin{bmatrix} 1 & 0 & 0 & 1 & -1 & 0 \\ 0 & 1 & 0 & -1 & 1 & -1 \\ 0 & 0 & 1 & -1 & 0 & -1 \end{bmatrix} \end{matrix}$$

$$\Rightarrow C = \begin{matrix} & 1 & 2 & 3 & 4 & 5 & 6 \\ \begin{bmatrix} 1 & 1 & 0 & -1 & 0 & 0 \\ -1 & 0 & 1 & 1 & -1 & 0 \\ -1 & 0 & 0 & 0 & -1 & 1 \end{bmatrix} \end{matrix}$$

11.12 电路模型图如图(a)所示, 图(b)是它的有向图。

- ① 以节点④为参考节点, 写出电路的降阶关联矩阵 A 。
- ② 以支路 1, 2, 5 为树, 写出基本回路矩阵 B , 基本割集矩阵 C 。



图题 11.12

解:

$$A = \begin{bmatrix} 1 & 1 & 1 & 0 & 0 & 0 \\ 0 & -1 & 0 & -1 & 0 & 1 \\ 0 & 0 & -1 & 1 & -1 & 0 \end{bmatrix}$$

$$B(N) = \begin{matrix} & 1 & 2 & 5 & 3 & 4 & 6 \\ \begin{bmatrix} -1 & 0 & -1 & 1 & 0 & 0 \\ 1 & -1 & 1 & 0 & 1 & 0 \\ -1 & 1 & 0 & 0 & 0 & 1 \end{bmatrix} \end{matrix}$$

$$\Rightarrow B = \begin{matrix} & 1 & 2 & 3 & 4 & 5 & 6 \\ \begin{bmatrix} -1 & 0 & 1 & 0 & -1 & 0 \\ 1 & -1 & 0 & 1 & 1 & 0 \\ -1 & 1 & 0 & 0 & 0 & 1 \end{bmatrix} \end{matrix}$$

$$C(N) = \begin{matrix} & 1 & 2 & 5 & 3 & 4 & 6 \\ \begin{bmatrix} 1 & 0 & 0 & 1 & -1 & 1 \\ 0 & 1 & 0 & 0 & 1 & -1 \\ 0 & 0 & 1 & 1 & -1 & 0 \end{bmatrix} \end{matrix}$$

$$\Rightarrow C = \begin{matrix} & 1 & 2 & 3 & 4 & 5 & 6 \\ \begin{bmatrix} 1 & 0 & 1 & -1 & 0 & 1 \\ 0 & 1 & 0 & 1 & 0 & -1 \\ 0 & 0 & 1 & -1 & 1 & 0 \end{bmatrix} \end{matrix}$$

11.13 某网络有 6 条支路，已知 3 条支路的电阻分别是 $R_1 = 2\Omega$ ， $R_2 = 5\Omega$ ， $R_3 = 10\Omega$ ；其余 3 条支路的电压分别是 $u_4 = 4\text{V}$ ， $u_5 = 6\text{V}$ ， $u_6 = -12\text{V}$ 。又知该网络的基本回路矩阵为

$$\mathbf{B} = \begin{bmatrix} 1 & 0 & 0 & 1 & 0 & 1 \\ 0 & 1 & 0 & -1 & -1 & -1 \\ 0 & 0 & 1 & 0 & -1 & -1 \end{bmatrix}$$

试求全部支路电流。

解：由基本回路矩阵可知：支路 1、2、3 为连支，4、5、6 为树支，已知树支电压，可以求出全部连支电压。

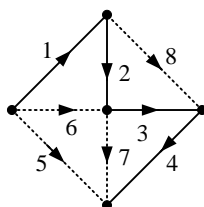
$$\begin{bmatrix} u_1 \\ u_2 \\ u_3 \end{bmatrix} = \mathbf{U}_l = -\mathbf{B}_l \mathbf{U}_t = - \begin{bmatrix} 1 & 0 & 1 \\ -1 & -1 & -1 \\ 0 & -1 & -1 \end{bmatrix} \begin{bmatrix} 4 \\ 6 \\ -12 \end{bmatrix} \text{V} = \begin{bmatrix} 8 \\ -2 \\ -6 \end{bmatrix} \text{V}$$

连支电流等于连支电压除以相应支路的电阻。

$$\mathbf{I}_l = \begin{bmatrix} \frac{u_1}{R_1} & \frac{u_2}{R_2} & \frac{u_3}{R_3} \end{bmatrix}^T = [4, -0.4, -0.6]^T \text{A}$$

$$\mathbf{I} = \mathbf{B}^T \mathbf{I}_l = \begin{bmatrix} 1 & 0 & 0 & 1 & 0 & 1 \\ 0 & 1 & 0 & -1 & -1 & -1 \\ 0 & 0 & 1 & 0 & -1 & -1 \end{bmatrix}^T \begin{bmatrix} 4 \\ -0.4 \\ -0.6 \end{bmatrix} = [4, -0.4, -0.6, 4.4, 1, 5]^T \text{A}$$

11.14 图示网络的图，根据所选的树，列出独立的 KCL 方程和独立的 KVL 方程，并写成矩阵形式。



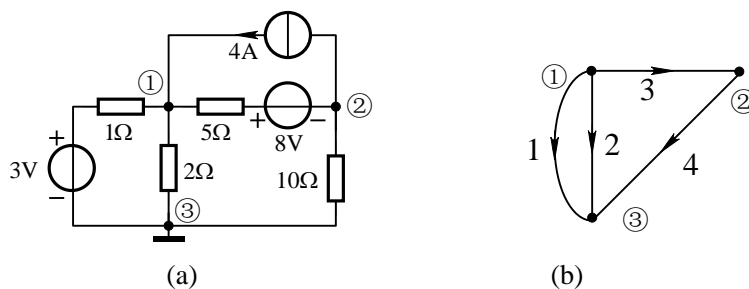
图题 11.14

解：根据所选的树，基本回路矩阵 \mathbf{B} 和基本割集矩阵 \mathbf{C} 如下：

$$\mathbf{B} = \begin{bmatrix} -1 & -1 & -1 & -1 & 1 & 0 & 0 & 0 \\ -1 & -1 & 0 & 0 & 0 & 1 & 0 & 0 \\ 0 & 0 & -1 & -1 & 0 & 0 & 1 & 0 \\ 0 & -1 & -1 & 0 & 0 & 0 & 0 & 1 \end{bmatrix} \quad \mathbf{C} = \begin{bmatrix} 1 & 0 & 0 & 0 & 1 & 1 & 0 & 0 \\ 0 & 1 & 0 & 0 & 1 & 1 & 0 & 1 \\ 0 & 0 & 1 & 0 & 1 & 0 & 1 & 1 \\ 0 & 0 & 0 & 1 & 1 & 0 & 1 & 0 \end{bmatrix}$$

KCL 方程和 KVL 方程矩阵形式为： $\mathbf{C}\mathbf{I} = 0$ ， $\mathbf{U} = \mathbf{C}^T \mathbf{U}_t$ ； $\mathbf{I} = \mathbf{B}^T \mathbf{I}_l$ ， $\mathbf{B}\mathbf{U} = 0$ 。

11.15 电路如图所示。利用矩阵运算列出节点电压方程。



图题 11.15

解：按照广义支路的定义，作出网络线图，如图(b)所示。

根据线图写出关联矩阵
$$\mathbf{A} = \begin{bmatrix} 1 & 1 & 1 & 0 \\ 0 & 0 & -1 & 1 \end{bmatrix}$$

支路电导矩阵
$$\mathbf{Y} = \text{diag}[1 \quad 0.5 \quad 0.2 \quad 0.1]\text{S}$$

支路源电压向量
$$\mathbf{U}_s = [3, \quad 0, \quad 8, \quad 0]^T \text{V},$$

支路源电流向量
$$\mathbf{I}_s = [0, \quad 0, \quad -4, \quad 0]^T \text{A}$$

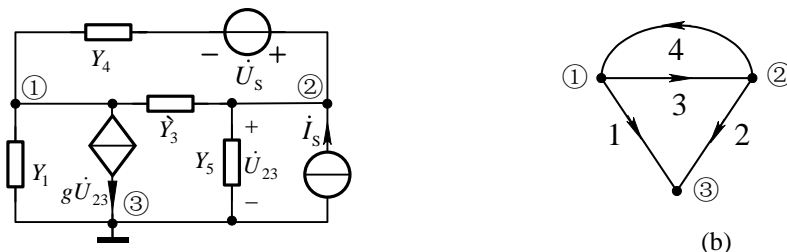
节点导纳矩阵

$$\mathbf{Y}_n = \mathbf{A}\mathbf{Y}\mathbf{A}^T = \begin{bmatrix} 1 & 1 & 1 & 0 \\ 0 & 0 & -1 & 1 \end{bmatrix} \begin{bmatrix} 1 & 0 & 0 & 0 \\ 0 & 0.5 & 0 & 0 \\ 0 & 0 & 0.2 & 0 \\ 0 & 0 & 0 & 0.1 \end{bmatrix} \begin{bmatrix} 1 & 0 \\ 1 & 0 \\ 1 & -1 \\ 0 & 1 \end{bmatrix} = \begin{bmatrix} 1.7 & -0.2 \\ -0.2 & 0.3 \end{bmatrix} \text{S}$$

节点注入电流向量
$$\mathbf{I}_{sn} = \mathbf{A}(\mathbf{G}\mathbf{U}_s - \mathbf{I}_s) = \begin{bmatrix} 8.6 \\ -5.6 \end{bmatrix} \text{A}$$

由 $\mathbf{Y}_n \mathbf{U}_n = \mathbf{I}_{sn}$ 得节点电压方程
$$\begin{bmatrix} 1.7 & -0.2 \\ -0.2 & 0.3 \end{bmatrix} \begin{bmatrix} U_{n1} \\ U_{n2} \end{bmatrix} = \begin{bmatrix} 8.6 \\ -5.6 \end{bmatrix}$$

11.16 电路如图所示。利用矩阵运算列出节点电压方程。



图题 11.16

解：按照广义支路的定义，作出网络线图，如图(b)所示。

根据线图写出关联矩阵
$$\mathbf{A} = \begin{bmatrix} 1 & 0 & 1 & -1 \\ 0 & -1 & -1 & 1 \end{bmatrix}$$

根据线图并对照电路图写出支路导纳矩阵

$$\mathbf{Y} = \begin{bmatrix} Y_1 & g & 0 & 0 \\ 0 & Y_2 & 0 & 0 \\ 0 & 0 & Y_3 & 0 \\ 0 & 0 & 0 & Y_4 \end{bmatrix}$$

支路源电压向量 $\mathbf{U}_s = [0, 0, 0, U_s]^T$, 支路源电流向量 $\mathbf{I}_s = [0, I_s, 0, 0]^T$

$$\text{节点导纳矩阵} \quad \mathbf{Y}_n = \mathbf{A}\mathbf{Y}\mathbf{A}^T = \begin{bmatrix} Y_1 + Y_3 + Y_4 & g - Y_3 - Y_4 \\ -Y_3 - Y_4 & Y_3 + Y_4 + Y_2 \end{bmatrix}$$

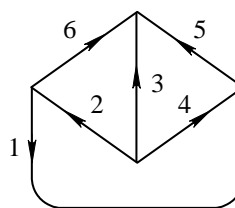
$$\text{节点注入电流向量} \quad \mathbf{I}_{sn} = \mathbf{A}\mathbf{Y}\mathbf{U}_s - \mathbf{A}\mathbf{I}_s = [-Y_4 U_s \quad I_s + Y_4 U_s]^T$$

由 $\mathbf{Y}_n \mathbf{U}_n = \mathbf{I}_{sn}$ 得节点电压方程

$$\begin{bmatrix} Y_1 + Y_3 + Y_4 & -(Y_3 + Y_4 - g) \\ -(Y_3 + Y_4) & Y_3 + Y_4 + Y_2 \end{bmatrix} \begin{bmatrix} U_{n1} \\ U_{n2} \end{bmatrix} = \begin{bmatrix} -Y_4 U_s \\ Y_4 U_s + I_s \end{bmatrix}$$

11.17 某电阻性电路的有向图如图所示, 已知该图的基本割集矩阵为 \mathbf{C} 和割集导纳矩阵为 \mathbf{Y} 分别为

$$\mathbf{C} = \begin{matrix} & \begin{matrix} 1 & 2 & 3 & 4 & 5 & 6 \end{matrix} \\ \begin{matrix} C_1 \\ C_2 \\ C_3 \end{matrix} & \begin{bmatrix} 0 & 1 & 1 & 1 & 0 & 0 \\ -1 & 1 & 1 & 0 & 1 & 0 \\ 1 & -1 & 0 & 0 & 0 & 1 \end{bmatrix} \end{matrix} \quad \mathbf{Y} = \begin{bmatrix} 1.25 & 1 & -0.5 \\ 1 & 3 & -1.5 \\ -0.5 & -1.5 & 1.75 \end{bmatrix}$$



图题 11.17

- 求: ① 指出基本割集矩阵 \mathbf{C} 对应的树支。
 ② 试确定该网络各支路的电阻参数。
 ③ 写出对应该树支的基本回路阻抗矩阵 \mathbf{Z} 。

解: 树支为支路 4, 5, 6

由割集导纳矩阵

$$\mathbf{Y}_t = \mathbf{C}\mathbf{Y}\mathbf{C}^T = \begin{bmatrix} Y_2 + Y_3 + Y_4 & Y_2 + Y_3 & -Y_2 \\ Y_2 + Y_3 & Y_1 + Y_2 + Y_3 + Y_5 & -Y_1 - Y_2 \\ -Y_2 & -Y_1 - Y_2 & Y_1 + Y_2 + Y_6 \end{bmatrix} = \begin{bmatrix} 1.25 & 1 & -0.5 \\ 1 & 3 & -1.5 \\ -0.5 & -1.5 & 1.75 \end{bmatrix}$$

$$\text{得 } \mathbf{Y} = \begin{bmatrix} 1 & 0 & 0 & 0 & 0 & 0 \\ 0 & 1/2 & 0 & 0 & 0 & 0 \\ 0 & 0 & 1/2 & 0 & 0 & 0 \\ 0 & 0 & 0 & 1/4 & 0 & 0 \\ 0 & 0 & 0 & 0 & 1 & 0 \\ 0 & 0 & 0 & 0 & 0 & 1/4 \end{bmatrix} \text{ S}$$

即: $R_1 = 1\Omega$, $R_2 = 2\Omega$, $R_3 = 2\Omega$, $R_4 = 4\Omega$, $R_5 = 1\Omega$, $R_6 = 4\Omega$

由网络图可写出 \mathbf{B} 为

$$\mathbf{B} = \begin{bmatrix} 1 & 0 & 0 & 0 & 1 & -1 \\ 0 & 1 & 0 & -1 & -1 & 1 \\ 0 & 0 & 1 & -1 & -1 & 0 \end{bmatrix}$$

$$\text{基本回路阻抗矩阵} \quad \mathbf{Z}_l = \mathbf{B}\mathbf{Z}\mathbf{B}^T = \begin{bmatrix} 6 & -5 & -1 \\ -5 & 11 & 5 \\ -1 & 5 & 7 \end{bmatrix} \Omega$$