

大学物理（王少杰教材）第 2 套阶段训练题目  
热学（9-10 章）

一、填空题（共 30 分）

1、(本题 4 分) 一理想气体系统处于平衡态，则意味着系统的温度\_\_\_\_\_，  
体积\_\_\_\_\_，每个气体分子的运动速率\_\_\_\_\_，压强\_\_\_\_\_。（请选填  
“不随时间改变”或“随时间改变”）

参考答案：不随时间改变，不随时间改变，随时间改变，不随时间改变

2、(本题 4 分) 一封闭的理想气体系统中，每个分子的平均平动动能增加到原  
来的 3 倍，然而压强却没有变化，则体积变为原来的\_\_\_\_\_倍。

参考答案：3

3、(本题 4 分) 对于一封闭的理想气体系统，压强不变的情况下，体积增大到原  
来的 4 倍，则分子平均碰撞频率变为原来的\_\_\_\_\_倍，分子的平均自由程变  
为原来的\_\_\_\_\_倍。

参考答案：0.5, 4

4、(本题 4 分)  $\nu$  mol 的封闭理想气体系统经历某一热力学过程，外界对系统做  
功为  $A$ ，系统的温度增加了 100 K，若已知其摩尔定容热容为常量  $C_{V,m}$ ，则系  
统对外界放热为\_\_\_\_\_。

参考答案： $A - 100\nu C_{V,m}$

5、(本题 4 分) 一理想气体开放系统经历一个等温热力学过程后，体积变为原来  
的  $\frac{1}{2}$ ，压强变为原来的  $\frac{3}{2}$ ，则系统的摩尔数变为原来的\_\_\_\_\_。

参考答案： $\frac{3}{4}$

6、(本题 4 分) 热力学第二定律指出，一切与热现象有关的实际宏观过程，都  
是\_\_\_\_\_。（请选填“可逆的”或“不可逆的”）

参考答案：不可逆的

7、(本题 3 分) 在两个恒温热源之间工作的一可逆卡诺热机，效率为  $\eta$ ，若将  
高温热源温度变为原来的 2 倍，低温热源温度变为原来的 1.5 倍，则此热机的效

率将变为\_\_\_\_\_。

参考答案:  $\frac{1}{4} + \frac{3}{4}\eta$

8、(本题 3 分) 根据熵增原理, 一个实际的热力学系统的熵将\_\_\_\_\_。

(请选填“永远减少”或“永远不变”或“永远增加”或“永不减少”或“可能减少”)

参考答案: 可能减少

## 二、推导证明题 (共 6 分)

9、(本题 6 分) 请由理想气体压强公式推导出理想气体的物态方程。

解: 理想气体压强公式  $p = \frac{2}{3}n\bar{\epsilon}_{kt}$  (2 分)

又理想气体分子平均平动动能  $\bar{\epsilon}_{kt} = \frac{3}{2}kT$  (1 分)

所以  $p = nkT$

又  $n = \frac{N}{V}$ ,  $k = \frac{R}{N_A}$  (1 分)

所以  $p = \frac{N}{V} \frac{R}{N_A} T$

$PV = \nu RT$  (2 分)

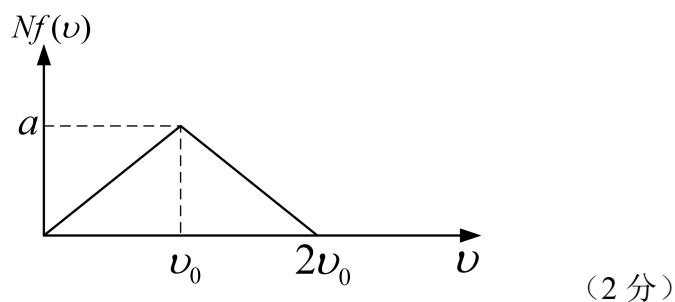
## 三、计算题 (共 58 分)

10、(本题 8 分) 设有  $N$  个粒子, 其速率分布函数为:

$$Nf(v) = \begin{cases} \frac{a}{v_0} v (0 < v < v_0) \\ 2a - \frac{a}{v_0} v (v_0 < v < 2v_0) \\ 0 (v > 2v_0) \end{cases}$$

(1) 画速率分布曲线; (2) 由  $N$  和  $v_0$  求常量  $a$ ; (3) 求  $(v_0/2 \sim v_0)$  区间内分子的平均速率。

解: (1) 速率分布函数为一段分段函数



(2) 由归一化条件, 有  $\int_0^{\infty} Nf(v)dv = N$

$$\int_0^{v_0} \frac{a}{v_0} v dv + \int_{v_0}^{2v_0} (2a - \frac{a}{v_0} v) dv = N$$

解得:  $a = \frac{N}{v_0}$  (2 分)

(3) ( $v_0/2 \sim v_0$ ) 区间内分子的平均速率

$$\bar{v} = \frac{\int_{0.5v_0}^{v_0} v f(v) dv}{\int_{0.5v_0}^{v_0} f(v) dv} = \frac{\int_{0.5v_0}^{v_0} v Nf(v) dv}{\int_{0.5v_0}^{v_0} Nf(v) dv} = \frac{\int_{0.5v_0}^{v_0} \frac{a}{v_0} v^2 dv}{\int_{0.5v_0}^{v_0} \frac{a}{v_0} v dv} \approx 0.78v_0 \quad (4 \text{ 分})$$

11、(本题 10 分)某种理想气体分子的方均根速率为  $450 \text{ m}\cdot\text{s}^{-1}$ , 气体的压强为  $7 \times 10^4 \text{ Pa}$ , 则该气体的密度为多少?

解: 根据理想气体状态方程

$$pV = \frac{M}{\mu} RT \quad (2 \text{ 分})$$

$$\frac{p}{\rho} = \frac{RT}{\mu} \quad (2 \text{ 分})$$

满足麦克斯韦速率分布的理想气体的均方根速率为

$$\sqrt{v^2} = \sqrt{\frac{3RT}{\mu}} = \sqrt{\frac{3p}{\rho}} \quad (3 \text{ 分})$$

则气体密度为  $\rho = p \frac{3}{v^2} = 1.04 \text{ kg/m}^3$  (3 分)

12、(本题 10 分)许多物质在低温下的比热由  $C = AT^6$  给出,  $A$  为已知系数。假设某物质在  $0 \text{ K}$  时的熵为零, 求质量为  $m$  的这种物质在温度  $T_1$  时的熵。

解: 设计初末态之间的可逆过程, 其中每个微小过程的物质的熵变为

$$dS = \frac{\delta Q}{T} \quad (2 \text{ 分})$$

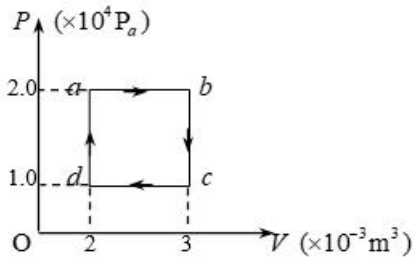
所以，温度  $T_1$  时的熵为

$$S = \int_0^{T_1} \frac{\delta Q}{T} \quad (2分)$$

而  $\delta Q = mCdT$  (2分)

$$有 S = \int_0^{T_1} \frac{mCdT}{T} = \int_0^{T_1} \frac{mAT^6 dT}{T} = \frac{1}{6}mAT^6 \quad (4分)$$

13、(本题10分) 如题图中所示的  $abcda$  闭合曲线为1mol 单原子分子理想气体经历的循环过程的  $p \sim V$  图。已知数据图中给出，求 (1) 气体从外界吸热总量；(2) 气体对外做的净功；(3) 循环的效率。



第13题图

解：(1)

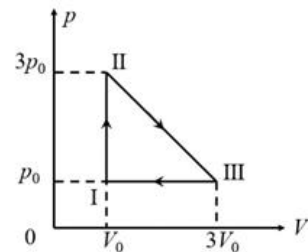
$$\begin{aligned} Q &= Q_{da} + Q_{ab} = \frac{3}{2}R(T_a - T_d) + \frac{5}{2}R(T_b - T_a) \\ &= \frac{3}{2}(p_a V_a - p_d V_d) + \frac{5}{2}(p_b V_b - p_a V_a) \\ &= \frac{3}{2}[2 \times 10^{-3} \times (2-1) \times 10^4] + \frac{5}{2}[2 \times 10^4 \times (3-2) \times 10^{-3}] \\ &= 80J \end{aligned} \quad (3分)$$

$$(2) \quad A = S_{abcda} = (2-1) \times 10^4 \times (3-2) \times 10^{-3} = 10J \quad (4分)$$

(3) 效率为

$$\eta = \frac{A}{Q} = \frac{1}{8} = 12.5\% \quad (3分)$$

14、(本题10分) 一密闭容器内盛有1mol 的氦气，可视为理想气体。该气体经历如图所示的可逆循环过程，I、II、III 态的压强和体积已在图中标出。求：(1) II  $\rightarrow$  III 过程中气体系统的最高温度；(2) 此循环的效率。



第14题图

解：(1) 对 II  $\rightarrow$  III 过程，有

$$\frac{p-p_0}{V-3V_0} = \frac{3p_0-p_0}{V_0-3V_0} = -\frac{p_0}{V_0}$$

其过程方程为  $p = -\frac{p_0}{V_0}V + 4p_0$  (2分)

而由状态方程  $PV = RT$ ，有

$$T = \frac{pV}{R} = -\frac{p_0}{RV_0}V^2 + \frac{4p_0}{R}V$$

由  $\frac{dT}{dV} = 0$ ，有  $-\frac{2p_0}{RV_0}V + \frac{4p_0}{R} = 0$ ，即  $V = 2V_0$ ， $p = 2p_0$ ，得

$$T_{\max} = \frac{4p_0V_0}{R} \quad (2分)$$

(2) II  $\rightarrow$  III 过程的绝热点处，有  $\delta Q = 0$ ，

$$\text{即 } \delta Q = dE + pdV = 0$$

$$pdV = -dE = -\frac{3}{2}RdT$$

$$\text{由状态方程，有 } pdV + Vdp = RdT = -\frac{2}{3}pdV$$

$$\frac{5}{3}pdV + Vdp = 0$$

$$\text{再由过程方程，有 } dp = -\frac{p_0}{V_0}dV$$

$$\text{所以，有 } \left[ \frac{5}{3} \left( -\frac{p_0}{V_0}V + 4p_0 \right) - \frac{p_0}{V_0}V \right] dV = 0$$

$$\text{即 } V_Q = \frac{5}{2}V_0, \quad p_Q = \frac{3}{2}p_0, \quad T_Q = \frac{15}{4} \frac{p_0V_0}{R}, \quad \text{这就是绝热点。} \quad (2分)$$

循环过程对外做功

$$A = \frac{1}{2}(3p_0 - p_0)(3V_0 - V_0) = 2p_0V_0$$

$$Q_{I-II} = \Delta E_{I-2} = \frac{3}{2}R(T_2 - T_1) = \frac{3}{2}R \left( \frac{3p_0V_0}{R} - \frac{p_0V_0}{R} \right) = 3p_0V_0$$

$$Q_{II-T_Q} = \Delta E_{II-T_Q} + A_{II-T_Q} = \frac{3}{2}R \left( \frac{15}{4} - 3 \right) \frac{p_0V_0}{R} + \frac{1}{2} \left( \frac{3}{2}p_0 + 3p_0 \right) \left( \frac{5}{2}V_0 - V_0 \right) = \frac{9}{2}p_0V_0 \quad (2分)$$

循环效率为

$$\eta = \frac{A}{Q_{I-II} + Q_{II-T_Q}} = \frac{2p_0V_0}{3p_0V_0 + 9p_0V_0/2} = \frac{4}{15} \approx 26.7\% \quad (2分)$$

15、(本题 10 分) 一体积恒定的绝热密闭容器，被一绝热薄隔板分成 A 和 B 两部分，体积分别为  $V$  和  $4V$ 。A 部分中盛有 4 mol 处于平衡态的某种理想气体，B 部分为真空。抽去绝热隔板（容器仍保持密闭），气体会向 B 扩散直至平衡。求气体系统在此过程中的熵变。

解：这是理想气体的绝热自由膨胀过程。

设初态的温度为  $T$ ，考虑到 B 部分为真空，所以此膨胀过程气体对外不作功，由因为容器绝热，所以膨胀过程中气体与外界无热交换，即

$$A=0 \text{ 且 } Q=0$$

根据热力学第一定律

$$Q = \Delta E + A$$

有  $\Delta E=0$

而理想气体的内能为

$$E = \nu \frac{i}{2} R_p T$$

所以气体末态的温度也为  $T$ ，这样可以设计一个与上面过程的初末态相同的等温膨胀过程，则此等温膨胀过程的熵变即为所求，即

$$\Delta S = \int_1^2 \frac{\delta Q}{T} = \frac{Q}{T} = \nu R_p \ln \frac{5V}{V} = 4R_p \ln 5$$

#### 四、设计应用题（共 6 分）

16. (本题 6 分) 请设计一个实验。测量系统的宏观量，利用这些宏观量来得到玻尔兹曼常数的数值。请给出实验过程、原理和必要的装置图。

**参考答案：**如测量一定量某种气体的压强、体积和温度，利用物态方程，可得到气体常量，进而得到玻尔兹曼常数。