

第 13 章 均匀传输线 习题解答

13.1 同轴电缆的参数为 $R_0 = 7\Omega/\text{km}$, $L_0 = 0.3\text{mH}/\text{km}$, $G_0 = 0.5 \times 10^{-6}\text{S}/\text{km}$, $C_0 = 0.2\mu\text{F}/\text{km}$ 。试计算当工作频率为 800Hz 时此电缆的特性阻抗 Z_c 、传播常数 γ 、相速 v_p 和波长 λ 。

解: $R_0 + j\omega L_0 = 7 + j2\pi \times 800 \times 0.3 \times 10^{-3} = 7.1606 \angle 12.157^\circ \Omega/\text{km}$

$$G_0 + j\omega C_0 = 0.5 \times 10^{-6} + j2\pi \times 800 \times 0.2 \times 10^{-6} = 1005.31 \times 10^{-6} \angle 89.972^\circ \text{ S}/\text{km}$$

$$\text{波阻抗 } Z_c = \sqrt{\frac{R_0 + j\omega L_0}{G_0 + j\omega C_0}} = 84.396 \angle -38.91^\circ \Omega$$

$$\text{传播常数 } \gamma = \alpha + j\beta = \sqrt{(R_0 + j\omega L_0)(G_0 + j\omega C_0)} = 0.0533 + j0.066 \text{ (1/km)}$$

$$\text{波长 } \lambda = \frac{2\pi}{\beta} = \frac{2\pi}{0.066} = 95.2\text{km} , \text{ 相速 } v_p = \lambda f = 95.2 \times 800 = 76163.5 \text{ km/s}$$

13.2 设沿某电缆分布着电压和电流行波

$$u = 14.1e^{-0.044x} \cos(5000t - 0.046x + \pi/6) \text{ (单位: V, km, s)}$$

$$i = 0.141e^{-0.044x} \cos(5000t - 0.046x + \pi/3) \text{ (单位: A, km, s)}$$

试求波阻抗、传播常数、波速、波长。

解: 可知这里的 u 和 i 都只有正向行波分量。传输线上电压和电流行波可表示如下:

$$\begin{cases} u = U_m e^{-\alpha x} \cos(\omega t - \beta x + \psi_u) \\ i = I_m e^{-\alpha x} \cos(\omega t - \beta x + \psi_i) \end{cases}$$

波阻抗等于任一点处行波电压相量与同方向行波电流相量之比。根据给定的电压和电流行波可得出:

$$\text{波阻抗 } Z_c = \frac{U_m \angle \psi_u}{I_m \angle \psi_i} = \frac{14.1 \angle \pi/6}{0.141 \angle \pi/3} = 100 \angle -30^\circ \Omega$$

$$\text{传播常数 } \gamma = \alpha + j\beta = 0.044 + j0.046 \text{ (1/km)}$$

$$\text{波速 } v = \frac{\omega}{\beta} = \frac{5000}{0.046} = 108695.65 \text{ km/s}$$

$$\text{波长 } \lambda = \frac{v}{f} = \frac{108695.65}{5000/2\pi} = 136.59\text{km}$$

13.3 某无损线波阻抗为 $Z_c = 70\Omega$ ，终端负载阻抗 $Z_2 = (35 + j35)\Omega$ 。试计算输入阻抗，设线长为(a) $\lambda/4$ ；(b) $\lambda/8$ 。

解：输入阻抗
$$Z_i = \frac{Z_2 \cos \beta l + jZ_c \sin \beta l}{Z_c \cos \beta l + jZ_2 \sin \beta l} \times Z_c \quad (1)$$

(a) 当 $l = \lambda/4$ 时， $\beta l = \frac{2\pi}{\lambda} \times \frac{\lambda}{4} = \pi/2$ ， $\cos \beta l = 0$ ， $\sin \beta l = 1$

$$Z_i = \frac{Z_c^2}{Z_2} = \frac{70^2}{35 + j35} = 70\sqrt{2} \angle -45^\circ \Omega$$

(b) 当 $l = \lambda/8$ 时 $\beta l = \pi/4$ ， $\cos \beta l = \sin \beta l = \sqrt{2}/2$

$$Z_i = \frac{Z_2 + jZ_c}{Z_c + jZ_2} \times Z_c = \frac{35 + j35 + j70}{70 - 35 + j35} \times 70 = 70\sqrt{5} \angle 26.6^\circ \Omega$$

13.4 长度为 $\lambda/4$ 的无损线，终端接电阻 $R_2 = 50\Omega$ ，现若使始端输入阻抗 $Z_i = 200\Omega$ ，问该无损线波阻抗应为多少？又若 $R_2 = 0$ ，则此无损线的输入阻抗是多少？

解： $l = \lambda/4$ ， $\beta l = \pi/2$ ， $\cos \beta l = 0$ ， $\sin \beta l = 1$ ，输入阻抗 $Z_i = \frac{Z_c^2}{R_2}$

若 $Z_i = 200\Omega$ 则 $Z_c = \sqrt{Z_i R_2} = \sqrt{200 \times 50} = 100\Omega$ ；若 $R_2 = 0$ 则 $Z_i \rightarrow \infty$

13.5 一信号源通过波阻抗为 50Ω 的无损线向 75Ω 负载电阻馈电。为实现匹配，在均匀线与负载间插入一段 $\lambda/4$ 的无损线，求该线的波阻抗。

解：当 $l = \lambda/4$ 时，输入阻抗 $Z_i = \frac{Z_c^2}{R_2}$

匹配时 $Z_{c1} = Z_i$ ，即 $50 = \frac{Z_c^2}{75}$ ， $Z_c = \sqrt{50 \times 75} = 61.24\Omega$

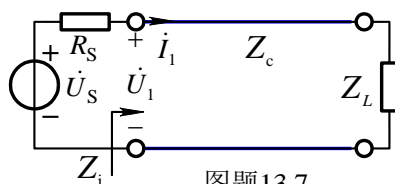
13.6 终端短路的无损线，其波阻抗 $Z_c = 505\Omega$ ，线长 35m ，波长 $\lambda = 50\text{m}$ ，求此无损线的等效电感值。

解：
$$f = \frac{v}{\lambda} = \frac{3 \times 10^8}{50} = 6 \times 10^6 \text{ Hz}$$

终端短路时等效输入阻抗 $Z_i = jZ_c \text{tg} \beta l = j505 \times \text{tg}(\frac{2\pi}{50} \times 35) = j1554.23\Omega = j\omega L$

等效电感
$$L = \frac{|Z_i|}{\omega} = \frac{1554.23}{2\pi \times 6 \times 10^6} = 41.22 \mu\text{H}$$

13.7 某无损线长 4.5m，波阻抗为 300Ω ，介质为空气。线路始端接一内阻为 100Ω ，电压为 10V ，频率为 100MHz 的正弦电压源，以电源电压为参考相量。试计算在距始端 1m 处的电压相量。设负载阻抗为：(1) 300Ω ；(2) 500Ω ；(3) $-j500\Omega$ 。



图题13.7

解
$$\beta = \frac{\omega}{v} = \frac{2\pi \times 10^8}{3 \times 10^8} = \frac{2}{3}\pi/\text{m}$$

(1) $Z_L = 300\Omega$ ，终端处于匹配状态，始端输入阻抗 $Z_i = Z_c = 300\Omega$

$$\dot{U}_1 = \frac{Z_i}{R_s + Z_i} \times \dot{U}_s = 7.5\text{V} \quad \dot{I}_1 = \dot{U}_1 / Z_i = 7.5 / 300 = 0.025\text{A}$$

$$x = 1\text{m}, \quad \beta x = \beta \times 1\text{m} = 2\pi/3, \quad \dot{U}(1\text{m}) = \dot{U}_1 \angle -2\pi/3 = 7.5 \angle -120^\circ\text{V}$$

(2) $Z_L = 500\Omega$ ， $\beta l = \frac{2\pi}{3} \times 4.5 = 3\pi$ ， $\cos \beta l = -1$ ， $\sin \beta l = 0$

$$Z_i = \frac{Z_L \cos \beta l + jZ_c \sin \beta l}{Z_c \cos \beta l + jZ_L \sin \beta l} \times Z_c = Z_L = 500\Omega \quad (1)$$

$$\dot{U}_1 = \frac{500}{500 + 100} \times 10\text{V} = 8.333\text{V} \quad \dot{I}_1 = \dot{U}_1 / Z_i = 8.333 / 500 = 0.0167\text{A}$$

$$\dot{U}(1\text{m}) = \dot{U}_1 \cos(2\pi/3) - jZ_c \dot{I}_1 \sin(2\pi/3) = -4.167 - j4.33 = 6.009 \angle -133.9^\circ\text{V}$$

(3) $Z_L = -j500\Omega$ ，由式(1)得： $Z_i = Z_L = -j500\Omega$

$$\dot{U}_2 = \frac{-j500}{100 - j500} \times 10\text{V} = 9.806 \angle -11.31^\circ\text{V} \quad \dot{I}_1 = \dot{U}_1 / (-j500) = 0.0196 \angle 78.69^\circ\text{A}$$

$$\begin{aligned} \dot{U}(1\text{m}) &= \dot{U}_1 \cos(2\pi/3) - jZ_c \dot{I}_1 \sin(2\pi/3) \\ &= 9.806 \angle -11.31^\circ \times \cos 120^\circ - j0.0196 \angle 78.69^\circ \times \sin 120^\circ \\ &= 0.192 \angle -11.3^\circ\text{V} \end{aligned}$$

13.8 设图示无损线长为 17m ，波阻抗 $Z_c = 150\Omega$ ， u_s 为正弦电压源。传输线上的行波波长 $\lambda = 8\text{m}$ ，电容的容抗 $|X_C| = 150\Omega$ 。试求传输线上电流始终为零的点距终端的距离。

解：将电容用一段长度为 l' 终端开路的传输线等效。

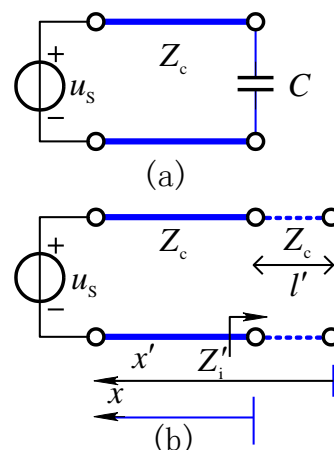
如图 13.8(b)所示。

$$Z'_i = -jZ_c \cot\left(\frac{2\pi}{\lambda} \times l'\right) = -j|X_c| = -j150 \quad \text{解得} \quad l' = 1 \text{ m}$$

这样相当于无损线增加了 1 米，等效终端开路，等效终端电流为零，距等效终端 $x' = k\frac{\lambda}{2}$ 处均为波节，距终端波节的位置为：

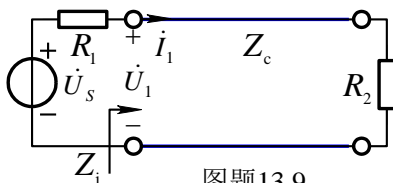
$$x = x' - l' = k\frac{\lambda}{2} - l' = 4k - 1 \quad (k = 1, 2, 3, 4)$$

所以传输线上电流始终为零的点距终端的距离 $x = 3\text{m}, 7\text{m}, 11\text{m}, 15\text{m}$ 。



图题13.8

13.9 无损均匀传输线线长 $l = 35.5\text{m}$ ，波阻抗 $Z_c = 600\Omega$ ，波速 $v = 3 \times 10^8 \text{m/s}$ ，正弦电压源 $\dot{U}_s = 10\text{V}$ ，频率 $f = 6 \times 10^6 \text{Hz}$ ，电阻 $R_2 = 4R_1 = 400\Omega$ 。(1)求始端电压 \dot{U}_1 和电流 \dot{I}_1 。(2)距离始端 12.5m 处的电压和电流相量。



图题13.9

解：(1) $\beta l = \frac{2\pi f}{v} \times l = 1.5\pi$ ， $\cos \beta l = 0$ ， $\sin \beta l = -1$

$$\text{始端输入阻抗 } Z_i = \frac{R_2 \cos \beta l + jZ_c \sin \beta l}{Z_c \cos \beta l + jR_2 \sin \beta l} \times Z_c = \frac{Z_c^2}{R_2} = 900\Omega$$

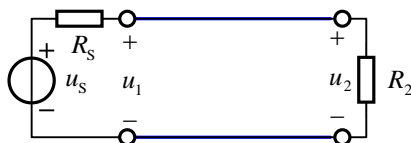
$$\dot{I}_1 = \frac{\dot{U}_s}{R_1 + Z_i} = \frac{10}{100 + 900} = 0.01\text{A}, \quad \dot{U}_1 = Z_i \dot{I}_1 = 9\text{V}$$

(2) $x = 12.5\text{m}$ 处， $\beta x = 0.5\pi$ 。 $\cos \beta l = 0$ ， $\sin \beta l = 1$ 。电压、电流分别为

$$\dot{U}(x) = \dot{U}_1 \cos \beta x - jZ_c \dot{I}_1 \sin \beta x = -jZ_c \dot{I}_1 = -j6\text{V}$$

$$\dot{I}(x) = \dot{I}_1 \cos \beta x - j\frac{\dot{U}_1}{Z_c} \sin \beta x = -j\frac{\dot{U}_1}{Z_c} = -j0.015\text{A}$$

13.10 图示电路中 $R_s = 100\Omega$ ， $u_s = 150 \cos(5000\pi t)\text{V}$ ， $R_2 = 100\Omega$ 。无损线线长 $l = 10\text{km}$ ， $L_0 = 10^{-3} \text{H/km}$ ， $C_0 = 10^{-7} \text{F/km}$ 。求 $u_1(t)$ 和 $u_2(t)$ 。



图题 13.10

解: $Z_c = \sqrt{\frac{L_0}{C_0}} = 100\Omega = R_2$ 处于匹配状态, 所以输入阻抗 $Z_i = Z_c = 100\Omega$ 为电阻性。

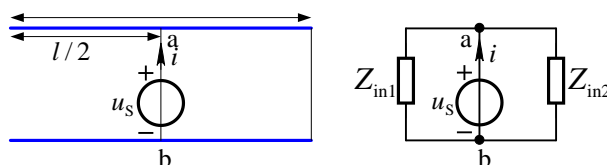
$$\therefore u_1 = \frac{u_s}{R_s + Z_i} \times Z_i = 75 \cos(5000\pi) \text{ V}$$

$$\text{波速 } v = \frac{1}{\sqrt{L_0 C_0}} = 10^5 \text{ km/s} = 10^8 \text{ m/s}, \text{ 频率 } f = 2500 \text{ Hz}$$

$$\text{波长 } \lambda = \frac{v}{f} = \frac{10^8}{2500} = 4 \times 10^4 \text{ m}, \quad \beta l = \frac{2\pi}{\lambda} \times l = \frac{2\pi}{4 \times 10^4} \times 10^4 = 0.5\pi,$$

$$\dot{U}_{2m} = \dot{U}_{1m} \angle -\beta l = 75 \angle -90^\circ \text{ V}, \quad \therefore u_2(t) = 75 \cos(5000\pi t - 90^\circ) \text{ V}$$

13.11 图示无损传输线, 长度为 $l = 50\text{m}$, 特性阻抗为 $Z_c = 100\sqrt{3}\Omega$, 传输线一端开路, 一端短路, 线路中点处接一电压源 $u_s(t) = 3\sqrt{2} \cos(\omega t + 30^\circ) \text{ V}$, 工作波长 $\lambda = 300\text{m}$, 求流过电压源的电流 $i(t)$ 。



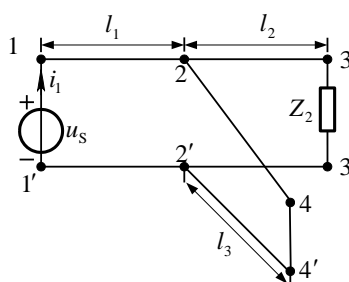
图题 13.11

解: 从 a-b 端向左看, 令其等效阻抗为 Z_{in1} , 其大小为 $Z_{in1} = -jZ_c \cot(\frac{2\pi}{\lambda} \times \frac{l}{2}) = -j300\Omega$;

从 a-b 端向右看, 令其等效阻抗为 Z_{in2} , 其大小为 $Z_{in2} = jZ_c \tan(\frac{2\pi}{\lambda} \times \frac{l}{2}) = j100\Omega$;

$$\text{电流 } i = \frac{\dot{U}_s}{Z_{in1} // Z_{in2}} = \frac{3 \angle 30^\circ \text{ V}}{j150 \Omega} = 0.02 \angle -60^\circ \text{ A}, \text{ 则 } i(t) = 0.02\sqrt{2} \cos(\omega t - 60^\circ) \text{ A}$$

13.12 图示电路中无损均匀传输线 l_1 、 l_2 、 l_3 , 其长度均为 0.75m , 特性阻抗 $Z_c = 100\Omega$, $u_s = 10 \cos(2\pi \times 10^8 t) \text{ V}$, 相位速度 $v = 3 \times 10^8 \text{ m/s}$, 终端 3-3' 接负载 $Z_2 = 10\Omega$, 终端 4-4' 短路, 求电源端的电流 $i_1(t)$



图题 13.12

解: $\lambda = v/f = 3\text{m}$, 三段无损线长度为四分之一波长

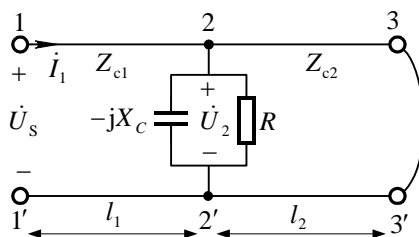
$$\text{根据 } Z_i(x') = Z_c \frac{Z_L \cos \beta x' + jZ_c \sin \beta x'}{jZ_L \sin \beta x' + Z_c \cos \beta x'}, \text{ 并且 } \beta x' = \pi/2, \text{ 可得 } Z_i = \frac{Z_c^2}{Z_L}$$

$$\text{由 2 端向 4 端看等效输入阻抗 } Z_{2,4} \rightarrow \infty, \text{ 由 2 端向 3 端看等效输入阻抗 } Z_{2,3} = \frac{Z_c^2}{Z_2} = 1000\Omega$$

$$\text{故 2-2' 端的等效阻抗 } Z_{2,2'} = Z_{2,3} = 1000\Omega, \text{ 从而由 1 端向 2 端看等效输入阻抗 } Z_{1,2} = \frac{Z_c^2}{Z_{2,2'}} = 10\Omega$$

$$\dot{U}_{\text{sm}} = 10\angle 0^\circ \text{V}, \dot{I}_{1\text{m}} = \dot{U}_{\text{sm}}/Z_{12} = 1\angle 0^\circ \text{A} \quad \text{则 } i_1(t) = \cos(2\pi \times 10^8 t) \text{A}$$

13.13 图示两条架空均匀无损线的波阻抗 $Z_{c1} = 300\Omega$, $Z_{c2} = 200\Omega$, 长度 $l_1 = \lambda/4$, $l_2 = \lambda/8$ 。1-1' 端接电压源 $\dot{U}_s = 600\angle 0^\circ \text{V}$, 2-2' 端接有集中参数 $R = 300\Omega$, $X_C = 200\Omega$, 终端 3-3' 短路。求: (1) 从 1-1' 端看入的入端阻抗 Z_{in} ; (2) 始端电流 I_1 ; (3) 2-2' 端电压 U_2 。



图题 13.13

解: (1) 由 2-2' 端向 3-3' 端看等效输入阻抗 $Z_{2,3} = jZ_{c2} \tan(\frac{2\pi}{\lambda} \times \frac{\lambda}{8}) = jZ_{c2} = j200\Omega$

$$2-2' \text{ 端的等效阻抗 } Z_{2,2'} = Z_{2,3} // (-jX_C) // R = j200\Omega // (-j200\Omega) // R = R$$

$$\text{从 1-1' 端看入的入端阻抗 } Z_{\text{in}} = Z_{c1} \frac{R \cos \beta l_1 + jZ_{c1} \sin \beta l_1}{jR \sin \beta l_1 + Z_{c1} \cos \beta l_1}, \quad \beta l_1 = \frac{2\pi}{\lambda} \times \frac{\lambda}{4} = \frac{\pi}{2}$$

$$\text{得 } Z_{\text{in}} = \frac{Z_{c1}^2}{R} = \frac{300^2}{300} = 300\Omega$$

$$(2) \text{ 始端电流 } I_1 = \frac{U_s}{Z_{\text{in}}} = \frac{600 \text{V}}{300\Omega} = 2 \text{A}$$

$$(3) \dot{U}_2 = (\cos \beta x) \dot{U}_s - (jZ_{c1} \sin \beta x) \dot{I}_1 = -jZ_{c1} \dot{I}_1 = -j600 \text{V} = 600\angle -90^\circ \text{V}$$

13.14 矩形电压波 $u^+ = 200\text{kV}$ 和电流波 $i^+ = 400\text{A}$ 沿架空线传播, 线路终端接有 800Ω 的电阻负载。试求波传到终端时负载所承受的电压为多少?

解：波阻抗 $Z_c = \frac{u^+}{i^+} = \frac{200 \times 10^3}{400} = 500\Omega$ ，终端反射系数 $N_2 = \frac{R_2 - Z_c}{R_2 + Z_c} = \frac{3}{13}$

故负载承受的电压 $u_2 = u_2^+ + N_2 u_2^+ = (1 + \frac{3}{13}) \times 200 \times 10^3 = 246.15\text{kV}$

13.15 长度为 $l = 600\text{m}$ 的无损线，波阻抗 $Z_c = 500\Omega$ ，终端接 $1\text{k}\Omega$ 电阻，始端施以阶跃电压 $u_s = 15\varepsilon(t)\text{V}$ 。试分析始端电流在 $0 < t < 6l/v$ 期间的波过程，最后的稳态解是多少？（波速 v 可按光速计算）

解：终端反射系数 $N_2 = \frac{Z_L - Z_c}{Z_L + Z_c} = \frac{1}{3}$ ，始端反射系数 $N_1 = \frac{Z_S - Z_c}{Z_S + Z_c} = -1$

这是一个多次反射过程，反射过程如图题 13.15 所示。其中 $t_d = l/v$

当 $0 < t < \frac{2l}{v}$ 时，反射波未达到始端，只有入射波。 $i_1 = i^+ = \frac{u_1}{Z_c} = \frac{15\text{V}}{500\Omega} = 30\text{mA}$

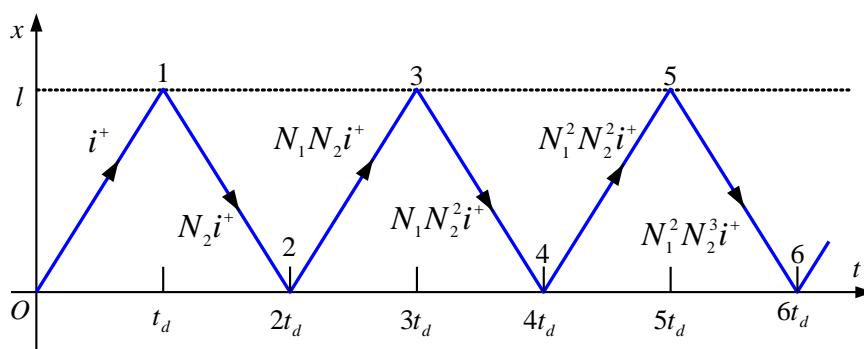
当 $\frac{2l}{v} < t < \frac{4l}{v}$ 时，反射波到达始端， $i_1 = i^+ - N_2 i^+ + N_1 N_2 i^+ = 30 - 10 - 10 = 10\text{mA}$

当 $\frac{4l}{v} < t < \frac{6l}{v}$ 时，始端电流为：

$i_1 = i^+ - N_2 i^+ + N_1 N_2 i^+ - N_1 N_2^2 i^+ + N_1^2 N_2^2 i^+ = 30 - 10 - 10 + \frac{10}{3} + \frac{10}{3} = 16.67\text{mA}$

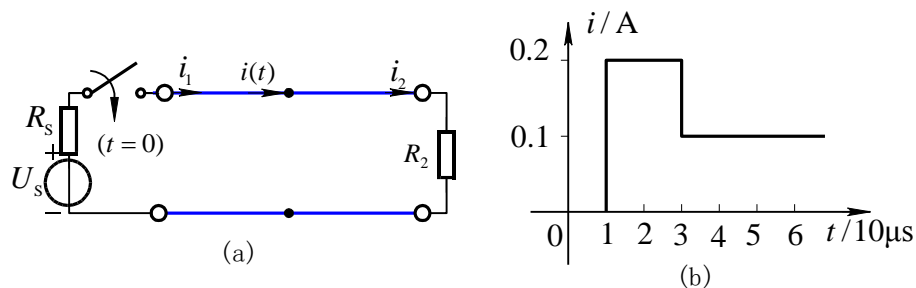
达到稳态时 $i_1(\infty) = \frac{u_1}{R_2} = 15\text{mA}$

所以 $i_1(t) = \begin{cases} 30\text{mA} & 0 < t < 2l/v \\ 10\text{mA} & 2l/v < t < 4l/v \\ 16.67\text{mA} & 4l/v < t < 6l/v \end{cases} \quad i_1(\infty) = \frac{u_1}{R_2} = 15\text{mA}$



图题13.15

13.16 图示无损均匀线线长 $l = 6\text{km}$ ，波阻抗 $Z_c = 600\Omega$ ，波速近似光速。又知 $R_s = Z_c$ ， $R_2 = 1800\Omega$ ， $U_s = 240\text{V}$ ， $t = 0$ 时开关接通。试确定无损线中点处电流 $i(t)$ 在 $0 < t < 60\mu\text{s}$ 期间的变化规律。



图题 13.16

解：波从始端传到中点所用的时间为： $t_1 = \frac{l/2}{v} = \frac{3 \times 10^3}{3 \times 10^8} = 10^{-5} \text{ s} = 10 \mu\text{s}$

(1) 当 $0 < t < 10 \mu\text{s}$ 时，入射波从始端发出，尚未到达中点所以 $i(t) = 0$ 。

(2) $10 \mu\text{s} < t < 30 \mu\text{s}$ 时，入射波已经过中点，但在终端所产生的反射波还没有到达中点。

$$i(t) = i_1^+ = \frac{U_s}{R_s + Z_c} = \frac{240}{600 + 600} = 0.2 \text{ A}$$

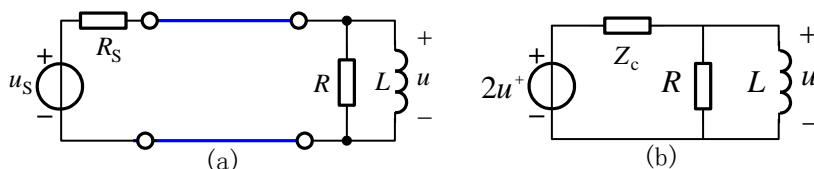
(3) $30 \mu\text{s} < t < 60 \mu\text{s}$ 时，在终端所产生的反射波已经过中点，并于 $t = 40 \mu\text{s}$ 时刻到达始端。由于

$R_s = Z_c$ ，所以到达始端后不再产生第二次反射

$$\text{终端反射系数 } N_2 = \frac{R_2 - Z_c}{R_2 + Z_c} = \frac{1800 - 600}{1800 + 600} = 0.5, \quad i_2^- = N_2 i_2^+ = N_2 i_1^+ = 0.1 \text{ A}$$

$i(t) = i_1^+ - i_2^- = 0.1 \text{ A}$ 。其波形如图13.16(b)所示。

13.17 电路如图所示，设无损耗传输线长为 1 ms 时间内波所传播的距离，波阻抗 $Z_c = R_s = 200 \Omega$ 。又已知 $R=300 \Omega$ ， $L=0.1 \text{ H}$ ， $u_s = 10 \varepsilon(t) - 10 \varepsilon(t - 0.001 \text{ s}) \text{ V}$ 。求 $t > 0$ 时的零状态响应 $u(t)$ 。



图题13.17

解： $0 < t < 1 \text{ ms}$ 时，入射波电压尚未传播到终端，所以 $u(t) = 0$ ；

$t > 1 \text{ ms}$ 时，入射波到达终端并产生反射波； $t > 2 \text{ ms}$ 时，反射波到达始端，但由于 $Z_c = R_s$ ，所以在始端不再产生第二次反射。根据彼德生法则，得到 $t > 1 \text{ ms}$ 时的终端等效电路如图(b)所示。其中

$$u^+ = \frac{Z_c}{R_s + Z_c} \times u_s \times \varepsilon(t - 0.001) = [5\varepsilon(t - 0.001) - 5\varepsilon(t - 0.002)]\text{V}$$

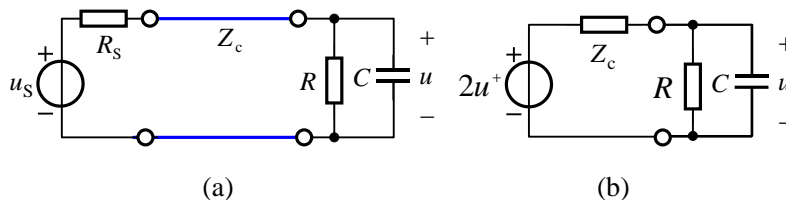
从电感两端看的等效电阻 $R_i = \frac{RZ_c}{R + Z_c} = \frac{300 \times 200}{300 + 200} = 120\Omega$ $\tau = \frac{l}{R_i} = \frac{1}{1200}\text{s}$

$u(t)$ 的单位阶跃特性为 $s(t) = \frac{R}{Z_c + R} e^{-t/\tau} = 0.6e^{-1200t} \varepsilon(t)$

[求阶跃特性是方便求 u^+ 的响应, 因 u^+ 是由两个阶跃信号叠加而成, 则 $u(t)$ 对 u^+ 的响应也就是两个阶跃响应的叠加]

所以 $u(t) = [6e^{-1200(t-0.001)} \varepsilon(t - 0.001) - 6e^{-1200(t-0.002)} \varepsilon(t - 0.002)]\text{V}$

13.18 电路如图所示, 无损均匀传输线长 $l = 300\text{m}$, 波阻抗 $Z_c = 200\Omega$, $R_s = 50\Omega$, 波速 $v = 3 \times 10^8 \text{m/s}$ 。又已知 $R = 300\Omega$, $C = 0.1\text{F}$, $u_s = 10 \varepsilon(t) \text{V}$ 。求 $0 < t < 3\mu\text{s}$ 时的终端电压 $u(t)$ 。



图题13.18

解: 入射波从始端传到终端的时间 $t = \frac{l}{v} = 1\mu\text{s}$

$0 < t < 1\mu\text{s}$ 时, 入射波电压尚未传播到终端, 所以 $u(t) = 0$;

$t > 1\mu\text{s}$ 时, 入射波到达终端并产生反射波; $2\mu\text{s} < t < 3\mu\text{s}$ 时, 反射波到达始端并产生二次反射, 但反射波还没到达终端。根据彼德生法则, 得到 $2\mu\text{s} < t < 3\mu\text{s}$ 时的终端等效电路如图(b)所示。其中

$$u^+ = \frac{Z_c}{R_s + Z_c} \times u_s = 8\varepsilon(t)\text{V}$$

从电容两端看的等效电阻

$$R_i = \frac{RZ_c}{R + Z_c} = \frac{300 \times 200}{300 + 200} = 120\Omega, \quad \tau = R_i C = 120 \times 0.1 \text{s} = 12 \text{s}$$

初始值: $u_2(t_{0+}) = 0$

稳态值: $u_2(\infty) = \frac{R}{R + Z_c} \times 2u^+ = \frac{300}{300 + 200} \times 2 \times 8 = 9.6\text{V}$

终端电压 $u(t) = [9.6(1 - e^{-(t-10^{-6})/12})\varepsilon(t - 10^{-6})]\text{V}, \quad 0 < t < 3\mu\text{s}$